

ΑΠΟΛΥΤΗΡΙΕΣ ΕΞΕΤΑΣΕΙΣ Δ' ΤΑΞΗΣ
ΕΣΠΕΡΙΝΟΥ ΕΝΙΑΙΟΥ ΛΥΚΕΙΟΥ
ΠΑΡΑΣΚΕΥΗ 2 ΙΟΥΝΙΟΥ 2000
ΕΞΕΤΑΖΟΜΕΝΟ ΜΑΘΗΜΑ ΤΕΧΝΟΛΟΓΙΚΗΣ ΚΑΤΕΥΘΥΝΣΗΣ
(ΚΥΚΛΟΣ ΠΛΗΡΟΦΟΡΙΚΗΣ ΚΑΙ ΥΠΗΡΕΣΙΩΝ):
ΑΝΑΠΤΥΞΗ ΕΦΑΡΜΟΓΩΝ ΣΕ ΠΡΟΓΡΑΜΜΑΤΙΣΤΙΚΟ
ΠΕΡΙΒΑΛΛΟΝ

ΘΕΜΑ 1°

A. Δώστε τον ορισμό του αλγορίθμου.

Μονάδες 10

B. Σε τρία διαφορετικά σημεία της Αθήνας καταγράφηκαν στις 12 το μεσημέρι οι θερμοκρασίες a, b, c. Να αναπτύξετε αλγόριθμο που:

1. Να διαβάζει τις θερμοκρασίες a, b, c.
2. Να υπολογίζει και θα εμφανίζει τη μέση τιμή των παραπάνω θερμοκρασιών.
3. Να εμφανίζει το μήνυμα "ΚΑΥΣΩΝΑΣ" αν η μέση τιμή είναι μεγαλύτερη των 37 βαθμών Κελσίου.

Μονάδες 15

ΘΕΜΑ 2°

A. Να γράψετε τη λέξη "Σωστό", αν είναι σωστή, ή τη λέξη "Λάθος", αν είναι λανθασμένη για κάθε πρόταση:

1. Όλα τα προβλήματα μπορούν να επιλυθούν με τη βοήθεια ηλεκτρονικού υπολογιστή.
2. Ο υπολογισμός του εμβαδού τετραγώνου είναι πρόβλημα άλυτο.
3. Το διάγραμμα ροής είναι ένα τρόπος περιγραφής αλγορίθμου.
4. Η ομάδα εντολών που περιέχεται σε μία δομή επιλογής μπορεί να μην εκτελεστεί.
5. Τα στοιχεία του πίνακα μπορεί να είναι διαφορετικού τύπου.

Μονάδες 8



B. Δίνεται το παρακάτω τμήμα αλγορίθμου

Διάβασε a

b ← 2 * a + 1

c ← a + b

Αν c > b **τότε**

b ← c

αλλιώς

c ← b

Τέλος_αν

Εμφάνισε a, b, c

Μετά την εκτέλεση του παραπάνω τμήματος αλγορίθμου, ποιες θα είναι οι τιμές των a, b, c που θα εμφανιστούν, όταν: **i) a = 10**, και **ii) a = -10**.

Μονάδες 15

ΘΕΜΑ 3°

A. Να αναφέρετε ονομαστικά τις τρεις βασικές δομές που χρησιμοποιούνται για την ανάπτυξη αλγορίθμων

Μονάδες 10



B. Να αναπτύξετε αλγόριθμο που να διαβάζει από το πληκτρολόγιο 100 ακεραίους αριθμούς, να υπολογίζει το γινόμενο τους και να το εμφανίζει.

Μονάδες 15

ΘΕΜΑ 4°

A. Να γράψετε το γράμμα της στήλης B που αντιστοιχεί στο δεδομένο της στήλης A.

Στήλη A. Δεδομένα	Στήλη B Τύποι Δεδομένων
1. Ύψος Εφήβου	A. Ακέραιος
2. Επώνυμο Μαθητή	B. Πραγματικός
3. Αριθμός Επιβατών σε αεροπλάνο	Γ. Αλφαριθμητικός – συμβολοσειρά Δ. Λογικός

Μονάδες 10



B. Να αναπτύξετε αλγόριθμο που να υπολογίζει και να εμφανίζει το μήκος της περιφέρειας L ενός κύκλου ακτίνας R. Η ακτίνα θα δίδεται από το πληκτρολόγιο. Χρησιμοποιήστε τον τύπο $L = 2\pi R$ όπου $\pi = 3,14$.

Μονάδες 15

ΑΠΟΛΥΤΗΡΙΕΣ ΕΞΕΤΑΣΕΙΣ Δ' ΤΑΞΗΣ
ΕΣΠΕΡΙΝΟΥ ΕΝΙΑΙΟΥ ΛΥΚΕΙΟΥ
ΠΑΡΑΣΚΕΥΗ 1 ΙΟΥΝΙΟΥ 2001
ΕΞΕΤΑΖΟΜΕΝΟ ΜΑΘΗΜΑ ΤΕΧΝΟΛΟΓΙΚΗΣ ΚΑΤΕΥΘΥΝΣΗΣ
(ΚΥΚΛΟΣ ΠΛΗΡΟΦΟΡΙΚΗΣ ΚΑΙ ΥΠΗΡΕΣΙΩΝ):
ΑΝΑΠΤΥΞΗ ΕΦΑΡΜΟΓΩΝ ΣΕ ΠΡΟΓΡΑΜΜΑΤΙΣΤΙΚΟ
ΠΕΡΙΒΑΛΛΟΝ
ΣΥΝΟΛΟ ΣΕΛΙΔΩΝ : ΠΕΝΤΕ (5)

ΘΕΜΑ 1ο

A. Να αναφερθούν οι βασικές αλγοριθμικές δομές (συνιστώσες / εντολές ενός αλγορίθμου).


Μονάδες 10

B. Δίνονται οι παρακάτω έννοιες:

- 1) Έξοδος
- 2) Περαιτότητα
- 3) Διάγραμμα ροής-διαγραμματικές τεχνικές
- 4) Ψευδοκώδικας-κωδικοποίηση
- 5) Καθοριστικότητα
- 6) Αποτελεσματικότητα
- 7) Είσοδος
- 8) Ελεύθερο κείμενο
- 9) Φυσική γλώσσα με βήματα

Ποιες από τις παραπάνω έννοιες ανήκουν στα χαρακτηριστικά-κριτήρια ενός αλγορίθμου και ποιες στους τρόπους περιγραφής - παρουσίασης - αναπαραστάσής του.

Μονάδες 10

 **Γ.** Δίνεται τμήμα αλγορίθμου:

$X \leftarrow 13$

Όσο $X \leq 20$ επανάλαβε

εμφάνισε X

$X \leftarrow X+2$

τέλος όσο

εμφάνισε X

1. Το παραπάνω τμήμα αλγορίθμου περιγράφει δομή επιλογής ή δομή επανάληψης;

Μονάδες 3


2. Για ποια τιμή του X τερματίζεται ο αλγόριθμος;

Μονάδες 3

3. Κατά την εκτέλεση του τμήματος αλγορίθμου ποιες είναι οι τιμές του X που θα εμφανιστούν;

Μονάδες 4

Σημείωση: Αντί του συμβόλου (\leftarrow) μπορεί ισοδύναμα να χρησιμοποιηθεί το σύμβολο ($:=$) ή ($=$).

 **Δ. 1.** Ποια είναι τα πλεονεκτήματα του δομημένου προγραμματισμού;

Μονάδες 5

2. Να αναφέρετε τους τελεστές σύγκρισης.

Μονάδες 5

ΘΕΜΑ 2ο

Υποψήφιος αγοραστής οικοπέδου μετά από επίσκεψη σε μεσιτικό γραφείο πώλησης ακινήτων πήρε τις εξής πληροφορίες:

Ένα οικόπεδο θεωρείται "ακριβό", όταν η τιμή πώλησης ανά τετραγωνικό μέτρο είναι μεγαλύτερη των 140.000 δραχμών, "φτηνό" όταν η τιμή πώλησης είναι μικρότερη των 50.000 δραχμών και σε οποιαδήποτε άλλη περίπτωση η τιμή θεωρείται "κανονική".

Να αναπτύξετε αλγόριθμο που για καθένα από 50 οικόπεδα:

1. να διαβάξει την τιμή πώλησης ολόκληρου του οικοπέδου και τον αριθμό των τετραγωνικών μέτρων του,

Μονάδες 5

2. να υπολογίζει την κατηγορία κόστους στην οποία ανήκει και να εμφανίζει το μήνυμα: "ακριβή τιμή" ή "φτηνή τιμή" ή "κανονική τιμή".

Μονάδες 15

ΘΕΜΑ 3ο

Ένας μαθητής που τελείωσε το γυμνάσιο με άριστα ζήτησε από τους γονείς του να του αγοράσουν ένα υπολογιστικό σύστημα αξίας 600.000 δραχμών. Οι γονείς του δήλωσαν ότι μπορούν να του διαθέσουν σταδιακά το ποσό, δίνοντάς του κάθε εβδομάδα ποσό διπλάσιο από την προηγούμενη, αρχίζοντας την πρώτη εβδομάδα με 5.000 δραχμές.

Να αναπτύξετε αλγόριθμο που:

1. να υπολογίζει και να εμφανίζει μετά από πόσες εβδομάδες θα μπορέσει να αγοράσει το υπολογιστικό σύστημα,

Μονάδες 10

2. να υπολογίζει, να ελέγχει και να εμφανίζει πιθανό περίσσευμα χρημάτων.

Μονάδες 10

ΘΕΜΑ 4ο

Σε κάποια εξεταστική δοκιμασία ένα γραπτό αξιολογείται από δύο βαθμολογητές στη βαθμολογική κλίμακα [0, 100].

Αν η διαφορά μεταξύ των βαθμολογιών του α' και του β' βαθμολογητή είναι μικρότερη ή ίση των 20 μονάδων της παραπάνω κλίμακας, ο τελικός βαθμός είναι ο μέσος όρος των δύο βαθμολογιών.

Αν η διαφορά μεταξύ των βαθμολογιών του α' και του β' βαθμολογητή είναι μεγαλύτερη από 20 μονάδες, το γραπτό δίνεται για αναβαθμολόγηση σε τρίτο βαθμολογητή. Ο τελικός βαθμός του γραπτού προκύπτει τότε από τον μέσο όρο των τριών βαθμολογιών.

Να αναπτύξετε αλγόριθμο ο οποίος, αφού ελέγξει την εγκυρότητα των βαθμών στην βαθμολογική κλίμακα [0, 100], να υλοποιεί την παραπάνω διαδικασία εξαγωγής τελικού βαθμού και να εμφανίζει τον τελικό βαθμό του γραπτού στην εικοσαβάθμια κλίμακα.

Παρατήρηση: Να θεωρήσετε ότι όλες οι ποσότητες εκφράζονται ως πραγματικοί αριθμοί.

Μονάδες 20

**ΟΔΗΓΙΕΣ
ΠΡΟΣ ΤΟΥΣ ΥΠΟΨΗΦΙΟΥΣ**

1. Στο τετράδιο να γράψετε μόνον τα προκαταρκτικά (ημερομηνία, κατεύθυνση, εξεταζόμενο μάθημα). Δεν θα μεταφέρετε στο τετράδιο τα κείμενα και τις παρατηρήσεις.
2. Να γράψετε το ονοματεπώνυμό σας στο πάνω μέρος των φωτοαντιγράφων, αμέσως μόλις σας παραδοθούν.
Δεν επιτρέπεται να γράψετε καμιά άλλη σημείωση. Κατά την αποχώρησή σας, να παραδώσετε μαζί με το τετράδιο και το φωτοαντίγραφο.
3. Να απαντήσετε σε όλα τα θέματα.
4. Κάθε απάντηση επιστημονικά τεκμηριωμένη είναι δεκτή.
5. Διάρκεια εξέτασης : τρεις (3) ώρες.
6. Χρόνος δυνατής αποχώρησης: Μία (1) ώρα μετά την έναρξη της εξέτασης.

**ΚΑΛΗ ΕΠΙΤΥΧΙΑ
ΤΕΛΟΣ ΜΗΝΥΜΑΤΟΣ**

ΑΠΟΛΥΤΗΡΙΕΣ ΕΞΕΤΑΣΕΙΣ Δ΄ ΤΑΞΗΣ
ΕΣΠΕΡΙΝΟΥ ΕΝΙΑΙΟΥ ΛΥΚΕΙΟΥ
ΔΕΥΤΕΡΑ 10 ΙΟΥΝΙΟΥ 2002
ΕΞΕΤΑΖΟΜΕΝΟ ΜΑΘΗΜΑ ΤΕΧΝΟΛΟΓΙΚΗΣ
ΚΑΤΕΥΘΥΝΣΗΣ (ΚΥΚΛΟΣ ΠΛΗΡΟΦΟΡΙΚΗΣ ΚΑΙ
ΥΠΗΡΕΣΙΩΝ):
ΑΝΑΠΤΥΞΗ ΕΦΑΡΜΟΓΩΝ ΣΕ ΠΡΟΓΡΑΜΜΑΤΙΣΤΙΚΟ
ΠΕΡΙΒΑΛΛΟΝ
ΣΥΝΟΛΟ ΣΕΛΙΔΩΝ: ΠΕΝΤΕ (5)

ΘΕΜΑ 1ο

A. 1. Πότε λέμε ότι ένα πρόβλημα είναι

- α. επιλύσιμο
- β. άλυτο
- γ. δομημένο;

Μονάδες 6

2. Με ποια κριτήρια κατηγοριοποιούνται τα προβλήματα σε επιλύσιμα, άλυτα και δομημένα;

Μονάδες 4

3. Να αναφέρετε από ένα παράδειγμα για καθεμιά από τις παραπάνω κατηγορίες.

Μονάδες 6

B. Να αναφέρετε συνοπτικά τους λόγους, για τους οποίους αναθέτουμε την επίλυση ενός προβλήματος σε υπολογιστή.

Μονάδες 4

Γ. Δίνεται ο πίνακας αλήθειας :



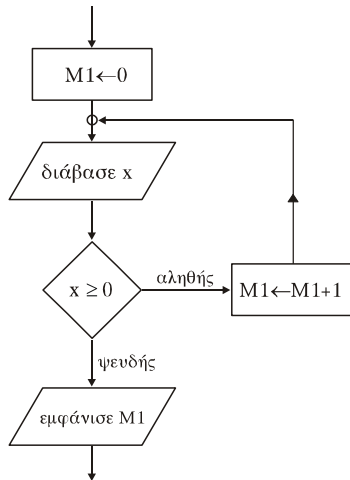
Πρόταση Α	Πρόταση Β	όχι Β (Άρνηση)	Α και Β (Σύζευξη)	Α ή Β (Διάζευξη)
Ψευδής	Αληθής			
Ψευδής	Ψευδής			

Να μεταφέρετε τον παραπάνω πίνακα στο τετράδιό σας και να συμπληρώσετε κατάλληλα τις κενές θέσεις του.

Μονάδες 6

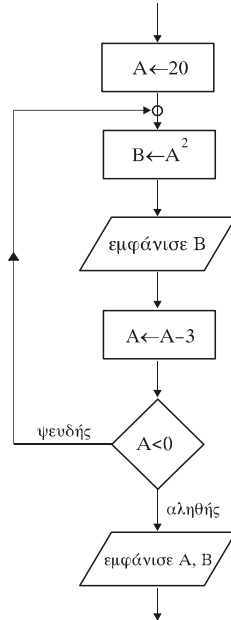
Α. Να γράψετε τα τμήματα αλγορίθμου, που αντιστοιχούν στα τμήματα των διαγραμμάτων ροής (α) και (β), που ακολουθούν.

(α)



Μονάδες 7

(β)



Μονάδες 7

ΘΕΜΑ 2ο

Ο μονοδιάστατος αριθμητικός πίνακας Table έχει τα ακόλουθα στοιχεία:

1 ^η θέση	2 ^η θέση	3 ^η θέση	4 ^η θέση	5 ^η θέση
43	72	-4	63	56



Δίνεται το παρακάτω τμήμα αλγορίθμου :

Για I από 2 μέχρι 5

Για J από 5 μέχρι I με_βήμα -1

Αν Table[J-1] < Table[J] τότε

Αντιμετάθεσε Table[J-1], Table[J]

Τέλος_αν

Τέλος_επανάληψης

Τέλος_επανάληψης

Να μεταφερθεί στο τετράδιό σας ο ακόλουθος πίνακας και να συμπληρωθεί για όλες τις τιμές του J, που αντιστοιχούν σε I=2 και I=3.

		Πίνακας				
I	J	1 ^η	2 ^η	3 ^η	4 ^η	5 ^η
2	5	43	72	-4	63	56
3						

Μονάδες 20

ΘΕΜΑ 3ο

Δίνονται η έκταση, ο πληθυσμός και το όνομα καθεμιάς από τις 15 χώρες της Ευρωπαϊκής Ένωσης. Να αναπτύξετε αλγόριθμο που

α) θα διαβάζει τα παραπάνω δεδομένα,

Μονάδες 4



- β) θα εμφανίζει τη χώρα με τη μεγαλύτερη έκταση,
Μονάδες 6
- γ) θα εμφανίζει τη χώρα με το μικρότερο πληθυσμό και
Μονάδες 6
- δ) θα εμφανίζει το μέσο όρο του πληθυσμού των 15 χωρών
της Ευρωπαϊκής Ένωσης.
Μονάδες 4

ΘΕΜΑ 4ο

Στο πλαίσιο προγράμματος προληπτικής ιατρικής για την αντιμετώπιση του νεανικού διαβήτη έγιναν αιματολογικές εξετάσεις στους 90 μαθητές (αγόρια και κορίτσια) ενός Γυμνασίου.

Για κάθε παιδί καταχωρίστηκαν τα ακόλουθα στοιχεία :

1. **ονοματεπώνυμο μαθητή**
2. **κωδικός φύλου** ("Α" για τα αγόρια και "Κ" για τα κορίτσια)
3. **περιεκτικότητα σακχάρου** στο αίμα.

Οι φυσιολογικές τιμές σακχάρου στο αίμα κυμαίνονται από 70 έως 110 mg/dl (συμπεριλαμβανομένων και των ακραίων τιμών).

Να αναπτύξετε αλγόριθμο που

α) θα διαβάξει τα παραπάνω στοιχεία (ονοματεπώνυμο, φύλο, περιεκτικότητα σακχάρου στο αίμα) και θα ελέγχει την αξιόπιστη καταχώρισή τους (δηλαδή το φύλο να είναι μόνο "Α" ή "Κ" και η περιεκτικότητα σακχάρου στο αίμα να είναι θετικός αριθμός),

Μονάδες 5

β) θα εμφανίζει για κάθε παιδί του οποίου η περιεκτικότητα σακχάρου στο αίμα είναι εκτός των φυσιολογικών τιμών, το ονοματεπώνυμο, το φύλο και την περιεκτικότητα του σακχάρου,

Μονάδες 5

- γ) θα εμφανίζει το συνολικό αριθμό των αγοριών των οποίων η περιεκτικότητα σακχάρου στο αίμα δεν είναι φυσιολογική και
Μονάδες 5
- δ) θα εμφανίζει το συνολικό αριθμό των κοριτσιών των οποίων η περιεκτικότητα σακχάρου στο αίμα δεν είναι φυσιολογική.
Μονάδες 5

ΣΗΜΕΙΩΣΕΙΣ :

1. Αντί του συμβόλου (\leftarrow) μπορεί ισοδύναμα να χρησιμοποιηθεί το σύμβολο ($:=$) ή ($=$).
2. Οι μαθητές μπορούν να διατυπώνουν τις απαντήσεις των θεμάτων, είτε σε οποιαδήποτε μορφή παράστασης αλγορίθμου, είτε σε "ΓΛΩΣΣΑ", είτε σε Pascal, είτε σε Basic, είτε σε Turbo Pascal, είτε σε Quick Basic.

ΟΔΗΓΙΕΣ (για τους εξεταζόμενους)

1. Στο τετράδιο να γράψετε μόνο τα προκαταρκτικά (ημερομηνία, κατεύθυνση, εξεταζόμενο μάθημα). Τα θέματα να μην τα αντιγράψετε στο τετράδιο. Τα σχήματα που θα χρησιμοποιήσετε στο τετράδιο μπορούν να γίνουν και με μολύβι.
2. Να γράψετε το ονοματεπώνυμό σας στο πάνω μέρος των φωτοαντιγράφων αμέσως μόλις σας παραδοθούν. Καμιά άλλη σημείωση δεν επιτρέπεται να γράψετε. Κατά την αποχώρησή σας να παραδώσετε μαζί με το τετράδιο και τα φωτοαντίγραφα, τα οποία και θα καταστραφούν μετά το πέρας της εξέτασης
3. Να απαντήσετε στο τετράδιό σας σε όλα τα θέματα.
4. Κάθε λύση επιστημονικά τεκμηριωμένη είναι αποδεκτή.
5. Διάρκεια εξέτασης: Τρεις (3) ώρες μετά τη διανομή των φωτοαντιγράφων.
6. Χρόνος δυνατής αποχώρησης : Μία (1) ώρα μετά τη διανομή των φωτοαντιγράφων.

ΚΑΛΗ ΕΠΙΤΥΧΙΑ

ΤΕΛΟΣ ΜΗΝΥΜΑΤΟΣ

ΑΠΟΛΥΤΗΡΙΕΣ ΕΞΕΤΑΣΕΙΣ Α΄ ΤΑΞΗΣ
 ΕΣΠΕΡΙΝΟΥ ΕΝΙΑΙΟΥ ΛΥΚΕΙΟΥ
 ΠΑΡΑΣΚΕΥΗ 6 ΙΟΥΝΙΟΥ 2003
 ΕΞΕΤΑΖΟΜΕΝΟ ΜΑΘΗΜΑ ΤΕΧΝΟΛΟΓΙΚΗΣ
 ΚΑΤΕΥΘΥΝΣΗΣ (ΚΥΚΛΟΣ ΠΛΗΡΟΦΟΡΙΚΗΣ ΚΑΙ
 ΥΠΗΡΕΣΙΩΝ):
 ΑΝΑΠΤΥΞΗ ΕΦΑΡΜΟΓΩΝ ΣΕ ΠΡΟΓΡΑΜΜΑΤΙΣΤΙΚΟ
 ΠΕΡΙΒΑΛΛΟΝ
 ΣΥΝΟΛΟ ΣΕΛΙΔΩΝ: ΕΞΙ (6)

ΘΕΜΑ 1ο

Α. Η «στοίβα» είναι μια δομή δεδομένων.

1. Να περιγράψετε τη «στοίβα» με ένα παράδειγμα από την καθημερινή ζωή.

Μονάδες 6

2. Να περιγράψετε τις κύριες λειτουργίες της «στοίβας».

Μονάδες 4

Β. Οι εντολές που περιέχονται μέσα σε μια δομή επανάληψης της μορφής

ΑΡΧΗ_ΕΠΑΝΑΛΗΨΗΣ

Εντολή_1

Εντολή_2

...

Εντολή_ν

ΜΕΧΡΙΣ_ΟΤΟΥ <συνθήκη>

εκτελούνται τουλάχιστον μία φορά.

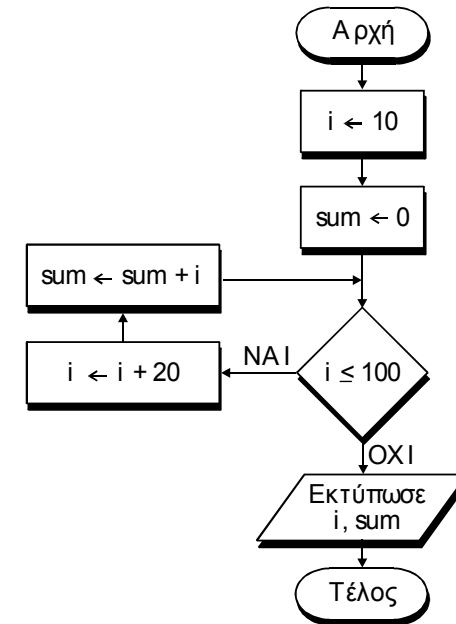
1. Είναι σωστή ή λανθασμένη η παραπάνω πρόταση;

Μονάδες 2

2. Να δικαιολογήσετε την απάντησή σας.

Μονάδες 3

Γ. Δίνεται ο αλγόριθμος:



1. Ποιον τύπο δεδομένων θα επιλέγατε για τη δήλωση κάθε μεταβλητής;

Μονάδες 2

2. Ποιες είναι οι διαδοχικές τιμές των i και sum;

Μονάδες 6

3. Ποιες τιμές θα εκτυπωθούν;

Μονάδες 3

4. Ποια αριθμητική παράσταση υπολογίζει ο αλγόριθμος;

Μονάδες 4

Δ. Να μετατρέψετε το παρακάτω τμήμα αλγορίθμου σε ισοδύναμο με τη χρήση της εντολής **ΟΣΟ ... ΕΠΑΝΑΛΑΒΕ**:



$K \leftarrow 0$

ΓΙΑ Α ΑΠΟ 5 ΜΕΧΡΙ 100 ΜΕ_ΒΗΜΑ 10

$K \leftarrow K + A$

ΤΕΛΟΣ_ΕΠΑΝΑΛΗΨΗΣ

ΓΡΑΨΕ Κ

Μονάδες 10



ΘΕΜΑ 2ο

Δίνεται ο πίνακας Α (σχήμα 1) και το παρακάτω τμήμα προγράμματος:

$sum \leftarrow 0$

ΓΙΑ i ΑΠΟ 1 ΜΕΧΡΙ 5

ΓΙΑ j ΑΠΟ 1 ΜΕΧΡΙ 5

ΑΝ $i = j$ ΤΟΤΕ

$sum \leftarrow sum + A[i,j]$

ΑΛΛΙΩΣ

$A[i,j] \leftarrow 0$

ΤΕΛΟΣ_ΑΝ

ΤΕΛΟΣ_ΕΠΑΝΑΛΗΨΗΣ

ΤΕΛΟΣ_ΕΠΑΝΑΛΗΨΗΣ

ΓΡΑΨΕ sum

Αυτό το τμήμα προγράμματος χρησιμοποιεί τον πίνακα Α, με τις τιμές των στοιχείων του, όπως αυτές φαίνονται στο σχήμα 1.

1	-1	7	1	1
6	2	0	8	-2
4	9	3	3	0
3	5	-4	2	1
0	1	2	0	1

Σχήμα 1: Πίνακας Α

1. Να σχεδιάσετε στο τετράδιό σας τον πίνακα Α με τις τιμές που θα έχουν τα στοιχεία του, μετά την εκτέλεση του τμήματος προγράμματος.

Μονάδες 15

2. Ποια είναι η τιμή της μεταβλητής sum που θα εμφανιστεί;

Μονάδες 5

ΘΕΜΑ 3ο



Για κάθε υπάλληλο δίνονται: ο μηνιαίος βασικός μισθός και ο αριθμός των παιδιών του. Δεχόμαστε ότι ο υπάλληλος μπορεί να έχει μέχρι και 20 παιδιά και ότι ο μηνιαίος βασικός μισθός του κυμαίνεται από 500 μέχρι και 1000 ευρώ. Οι συνολικές αποδοχές του υπολογίζονται ως το άθροισμα του μηνιαίου βασικού μισθού και του οικογενειακού επιδόματός του. Το οικογενειακό επίδομα υπολογίζεται ως εξής:

30 ευρώ για κάθε παιδί μέχρι και τρία παιδιά, και 40 ευρώ για κάθε παιδί πέραν των τριών (4ο, 5ο, 6ο κ.τ.λ.).

- α. Να προσδιορίσετε τις μεταβλητές που θα χρησιμοποιήσετε και να δηλώσετε τον τύπο των δεδομένων που αντιστοιχούν σ' αυτές.

Μονάδες 4

- β. Να γράψετε αλγόριθμο, ο οποίος:

1. εισάγει τα κατάλληλα δεδομένα και ελέγχει την ορθή καταχώρισή τους,

Μονάδες 7

2. υπολογίζει και εμφανίζει το οικογενειακό επίδομα και

Μονάδες 7

3. υπολογίζει και εμφανίζει τις συνολικές αποδοχές του υπαλλήλου.

Μονάδες 2

ΘΕΜΑ 4ο

Για κάθε μαθητή δίνονται τα στοιχεία: ονοματεπώνυμο, προφορικός και γραπτός βαθμός ενός μαθήματος.

Να γραφεί αλγόριθμος, ο οποίος εκτελεί τις ακόλουθες λειτουργίες:

- α. Διαβάξει τα στοιχεία πολλών μαθητών και σταματά όταν δοθεί ως ονοματεπώνυμο το κενό.

Μονάδες 5

- β. Ελέγχει αν ο προφορικός και ο γραπτός βαθμός είναι από 0 μέχρι και 20.

Μονάδες 5

- γ. Υπολογίζει τον τελικό βαθμό του μαθήματος, ο οποίος είναι το άθροισμα του 30% του προφορικού βαθμού και του 70% του γραπτού βαθμού. Επίσης, τυπώνει το ονοματεπώνυμο του μαθητή και τον τελικό βαθμό του μαθήματος.

Μονάδες 5

- δ. Υπολογίζει και τυπώνει το ποσοστό των μαθητών που έχουν βαθμό μεγαλύτερο του 18.

Μονάδες 5

ΣΗΜΕΙΩΣΕΙΣ:

1. Σε όλα τα θέματα, αντί του συμβόλου (\leftarrow) μπορεί ισοδύναμα να χρησιμοποιηθεί το σύμβολο ($:=$) ή ($=$).
2. Οι μαθητές μπορούν να διατυπώσουν τις απαντήσεις των θεμάτων, είτε σε οποιαδήποτε μορφή παράστασης αλγορίθμου, είτε σε «ΓΛΩΣΣΑ».

ΟΛΗΓΙΕΣ (για τους εξεταζόμενους)

1. Στο τετράδιο να γράψετε μόνο τα προκαταρκτικά (ημερομηνία, κατεύθυνση, εξεταζόμενο μάθημα). Τα θέματα να μην τα αντιγράψετε στο τετράδιο. Τα σχήματα

που θα χρησιμοποιήσετε στο τετράδιο μπορούν να γίνουν και με μολύβι.

2. Να γράψετε το ονοματεπώνυμό σας στο πάνω μέρος των φωτοαντιγράφων αμέσως μόλις σας παραδοθούν. Καμιά άλλη σημείωση δεν επιτρέπεται να γράψετε.

Κατά την αποχώρησή σας να παραδώσετε μαζί με το τετράδιο και τα φωτοαντίγραφα, τα οποία και θα καταστραφούν μετά το πέρας της εξέτασης

3. Να απαντήσετε **στο τετράδιό σας** σε όλα τα θέματα.
 4. Κάθε λύση επιστημονικά τεκμηριωμένη είναι αποδεκτή.
 5. Διάρκεια εξέτασης: Τρεις (3) ώρες μετά τη διανομή των φωτοαντιγράφων.
 6. Χρόνος δυνατής αποχώρησης : Μία (1) ώρα μετά τη διανομή των φωτοαντιγράφων.

ΚΑΛΗ ΕΠΙΤΥΧΙΑ

ΤΕΛΟΣ ΜΗΝΥΜΑΤΟΣ

**ΑΠΟΛΥΤΗΡΙΕΣ ΕΞΕΤΑΣΕΙΣ Α' ΤΑΞΗΣ
 ΕΣΠΕΡΙΝΟΥ ΕΝΙΑΙΟΥ ΛΥΚΕΙΟΥ
 ΔΕΥΤΕΡΑ 7 ΙΟΥΝΙΟΥ 2004
 ΕΞΕΤΑΖΟΜΕΝΟ ΜΑΘΗΜΑ ΤΕΧΝΟΛΟΓΙΚΗΣ
 ΚΑΤΕΥΘΥΝΣΗΣ (ΚΥΚΛΟΣ ΠΛΗΡΟΦΟΡΙΚΗΣ ΚΑΙ
 ΥΠΗΡΕΣΙΩΝ):
 ΑΝΑΠΤΥΞΗ ΕΦΑΡΜΟΓΩΝ ΣΕ ΠΡΟΓΡΑΜΜΑΤΙΣΤΙΚΟ
 ΠΕΡΙΒΑΛΛΟΝ
 ΣΥΝΟΛΟ ΣΕΛΙΔΩΝ: ΕΞΙ (6)**

ΘΕΜΑ 1ο

A. Στον προγραμματισμό χρησιμοποιούνται δομές δεδομένων.

1. Τι είναι δυναμική δομή δεδομένων;

Μονάδες 3

2. Τι είναι στατική δομή δεδομένων;

Μονάδες 3

3. Να αναφερθούν οι βασικές λειτουργίες (πράξεις) επί των δομών δεδομένων.

Μονάδες 8

B. Η ουρά είναι μία δομή δεδομένων.

1. Να δώσετε ένα παράδειγμα ουράς από την καθημερινή ζωή.

Μονάδες 3

2. Να αναφέρετε τις λειτουργίες της ουράς και τους δείκτες που απαιτούνται.

Μονάδες 3

3. Σε μία ουρά 10 θέσεων έχουν τοποθετηθεί διαδοχικά τα στοιχεία: Μ, Κ, Δ, Α, Σ στην πρώτη, δεύτερη, τρίτη, τέταρτη και πέμπτη θέση αντίστοιχα.

α. Να προσδιορίσετε τις τιμές των δεικτών της παραπάνω ουράς.

Μονάδες 3

β. Στη συνέχεια να αφαιρέσετε ένα στοιχείο από την ουρά. Ποιος δείκτης μεταβάλλεται και ποια η νέα του τιμή;

Μονάδες 3

γ. Τέλος να τοποθετήσετε το στοιχείο Λ στην ουρά. Ποιος δείκτης μεταβάλλεται και ποια η νέα του τιμή;

Μονάδες 3

Γ. Δίνεται το παρακάτω τμήμα αλγορίθμου:

X ← 50

ΟΣΟ X > 0 ΕΠΑΝΑΛΑΒΕ

ΓΙΑ Y ΑΠΟ 2 ΜΕΧΡΙ 6 ΜΕ_ΒΗΜΑ 2

X ← X - 10

ΤΕΛΟΣ_ΕΠΑΝΑΛΗΨΗΣ

ΓΡΑΨΕ X

ΤΕΛΟΣ_ΕΠΑΝΑΛΗΨΗΣ

1. Πόσες φορές θα εκτελεστεί η εντολή **ΓΡΑΨΕ X**;

Μονάδες 3

2. Πόσες φορές θα εκτελεστεί η εντολή εκχώρησης **X ← X - 10**;

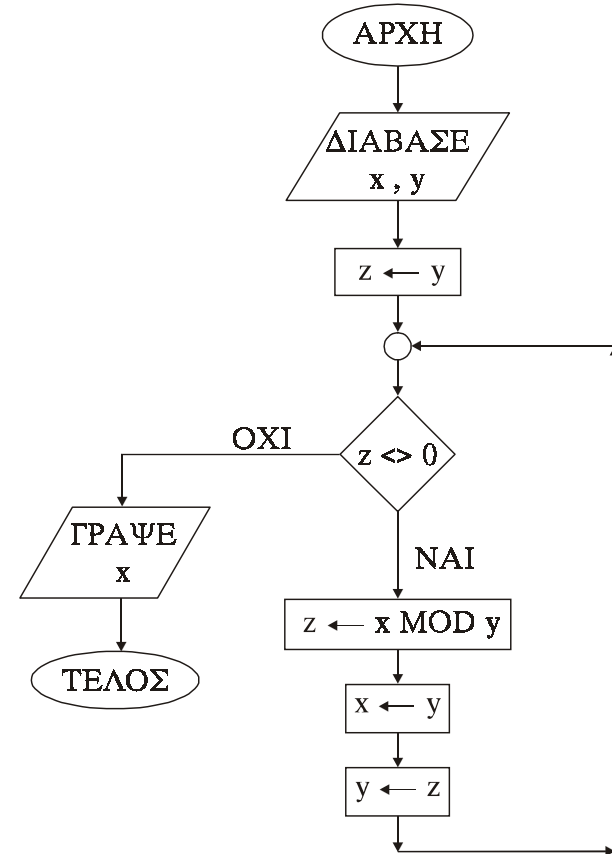
Μονάδες 3

3. Ποιες είναι οι διαδοχικές τιμές των μεταβλητών X και Y σε όλες τις επαναλήψεις;

Μονάδες 5

ΘΕΜΑ 2ο

Δίνεται το διάγραμμα ροής:



1. Να γράψετε τον πίνακα τιμών των μεταβλητών x, y, z αν ως αρχικές τιμές δοθούν x = 12 και y = 18.

Μονάδες 10

2. Να μετατρέψετε το παραπάνω διάγραμμα ροής σε πρόγραμμα.



Τμήμα δηλώσεων

Μονάδες 2

Κύριο μέρος

Μονάδες 8



ΘΕΜΑ 3ο

Σε έναν αγώνα δισκοβολίας συμμετέχουν 20 αθλητές. Κάθε αθλητής έκανε μόνο μία έγκυρη ρίψη που καταχωρείται ως επίδοση του αθλητή και εκφράζεται σε μέτρα. Να αναπτύξετε αλγόριθμο που

- α. να διαβάξει για κάθε αθλητή το όνομα και την επίδοσή του,

Μονάδες 5

- β. να ταξινομεί τους αθλητές ως προς την επίδοσή τους,

Μονάδες 5

- γ. να εμφανίζει τα ονόματα και τις επιδόσεις των τριών πρώτων αθλητών, αρχίζοντας από εκείνον με την καλύτερη επίδοση,

Μονάδες 5

- δ. να εμφανίζει τα ονόματα και τις επιδόσεις των πέντε τελευταίων αθλητών, αρχίζοντας από εκείνον με την καλύτερη επίδοση.

Μονάδες 5

Σημείωση: Να θεωρήσετε ότι δεν υπάρχουν αθλητές με την ίδια ακριβώς επίδοση.

ΘΕΜΑ 4ο

Μία εταιρεία απασχολεί 30 υπαλλήλους. Οι μηνιαίες αποδοχές κάθε υπαλλήλου κυμαίνονται από 0 € έως και 3.000 €.

- A. Να γράψετε αλγόριθμο που για κάθε υπάλληλο

1. να διαβάξει το ονοματεπώνυμο και τις μηνιαίες αποδοχές και να ελέγχει την ορθότητα καταχώρησης των μηνιαίων αποδοχών του,

Μονάδες 4

2. να υπολογίζει το ποσό του φόρου κλιμακωτά, σύμφωνα με τον παρακάτω πίνακα:

Μηνιαίες αποδοχές	Ποσοστό κράτησης φόρου
Έως και 700 €	0%
Άνω των 700 € έως και 1.000 €	15%
Άνω των 1.000 € έως και 1.700 €	30%
Άνω των 1.700 €	40%

Μονάδες 8

3. να εμφανίζει το ονοματεπώνυμο, τις μηνιαίες αποδοχές, το φόρο και τις καθαρές μηνιαίες αποδοχές, που προκύπτουν μετά την αφαίρεση του φόρου.

Μονάδες 4

- B. Τέλος, ο παραπάνω αλγόριθμος να υπολογίζει και να εμφανίζει

1. το συνολικό ποσό που αντιστοιχεί στο φόρο όλων των υπαλλήλων,

Μονάδες 2

2. το συνολικό ποσό που αντιστοιχεί στις καθαρές μηνιαίες αποδοχές όλων των υπαλλήλων.

Μονάδες 2

ΟΔΗΓΙΕΣ (για τους εξεταζόμενους)

1. Στο τετράδιο να γράψετε μόνο τα προκαταρκτικά (ημερομηνία, κατεύθυνση, εξεταζόμενο μάθημα). Τα θέματα να μην τα αντιγράψετε στο τετράδιο. Τα σχήματα που θα χρησιμοποιήσετε στο τετράδιο μπορούν να γίνουν και με μολύβι.
2. Να γράψετε το ονοματεπώνυμό σας στο πάνω μέρος των φωτοαντιγράφων αμέσως μόλις σας παραδοθούν. Καμιά άλλη σημείωση δεν επιτρέπεται να γράψετε.
Κατά την αποχώρησή σας να παραδώσετε μαζί με το τετράδιο και τα φωτοαντίγραφα, τα οποία και θα καταστραφούν μετά το πέρας της εξέτασης.
3. Να απαντήσετε **στο τετράδιό σας** σε όλα τα θέματα.
4. Κάθε λύση επιστημονικά τεκμηριωμένη είναι αποδεκτή.
5. Διάρκεια εξέτασης: Τρεις (3) ώρες μετά τη διανομή των φωτοαντιγράφων.
6. Χρόνος δυνατής αποχώρησης: Μία (1) ώρα μετά τη διανομή των φωτοαντιγράφων.

ΚΑΛΗ ΕΠΙΤΥΧΙΑ**ΤΕΛΟΣ ΜΗΝΥΜΑΤΟΣ**

**ΑΠΟΛΥΤΗΡΙΕΣ ΕΞΕΤΑΣΕΙΣ Α' ΤΑΞΗΣ
ΕΣΠΕΡΙΝΟΥ ΕΝΙΑΙΟΥ ΛΥΚΕΙΟΥ
ΠΑΡΑΣΚΕΥΗ 10 ΙΟΥΝΙΟΥ 2005
ΕΞΕΤΑΖΟΜΕΝΟ ΜΑΘΗΜΑ ΤΕΧΝΟΛΟΓΙΚΗΣ
ΚΑΤΕΥΘΥΝΣΗΣ (ΚΥΚΛΟΣ ΠΛΗΡΟΦΟΡΙΚΗΣ ΚΑΙ
ΥΠΗΡΕΣΙΩΝ):
ΑΝΑΠΤΥΞΗ ΕΦΑΡΜΟΓΩΝ ΣΕ ΠΡΟΓΡΑΜΜΑΤΙΣΤΙΚΟ
ΠΕΡΙΒΑΛΛΟΝ
ΣΥΝΟΛΟ ΣΕΛΙΔΩΝ: ΕΠΤΑ (7)**

ΘΕΜΑ 1ο

- A.** α) Πότε ένα πρόβλημα χαρακτηρίζεται
- 1) ημιδομημένο
 - 2) ανοικτό
 - 3) δομημένο

Μονάδες 6

- β) Να αναφέρετε από ένα παράδειγμα προβλήματος για κάθε μια από τις παραπάνω κατηγορίες.

Μονάδες 6

- B.** Αν $X=15$, $Y=-3$ και $Z=2$, να χαρακτηρίσετε στο τετράδιό σας τις ακόλουθες εκφράσεις χρησιμοποιώντας μία από τις λέξεις **ΑΛΗΘΗΣ** ή **ΨΕΥΔΗΣ**.

- α) $X > Z$
- β) **ΟΧΙ** ($X + Y > 8$)
- γ) ($X > Y$) **ΚΑΙ** ($Z < 3$)
- δ) ($X > 10$) **Ή** ($(Y > 2)$ **ΚΑΙ** ($Z > Y$))

Μονάδες 12

Γ. Να αντιστοιχίσετε σωστά τους αριθμούς της **Στήλης Α** με τα γράμματα της **Στήλης Β**. Στη **Στήλη Β** υπάρχει ένα επιπλέον στοιχείο.



Στήλη Α Σχήματα	Στήλη Β Εντολές
1.	α. ΑΝ συνθήκη ΤΟΤΕ ...
2.	β. ΔΙΑΒΑΣΕ ...
3.	γ. ΕΠΙΛΕΞΕ έκφραση Περίπτωση ... ΤΕΛΟΣ_ΕΠΙΛΟΓΩΝ
4.	δ. ΑΡΧΗ_ΕΠΑΝΑΛΗΨΗΣ εντολές ΜΕΧΡΙΣ_ΟΤΟΥ συνθήκη
5.	ε. ΟΣΟ συνθήκη ΕΠΑΝΑΛΑΒΕ εντολές ΤΕΛΟΣ_ΕΠΑΝΑΛΗΨΗΣ
	στ. Εντολή εκχώρησης

Μονάδες 10

Δ. α) Να αναφέρετε τους αριθμητικούς τύπους δεδομένων της «ΓΛΩΣΣΑΣ».

Μονάδες 2

β) Τι είναι σταθερά και τι είναι μεταβλητή;

Μονάδες 2

γ) Να δώσετε από ένα παράδειγμα δήλωσης σταθεράς και δήλωσης μεταβλητής στη «ΓΛΩΣΣΑ».

Μονάδες 2



ΘΕΜΑ 2ο

Δίνεται το παρακάτω τμήμα αλγορίθμου όπου οι μεταβλητές **K, L, M** είναι ακέραιες:

$K \leftarrow 35$

$L \leftarrow 17$

$M \leftarrow 0$

ΟΣΟ $L > 0$ **ΕΠΑΝΑΛΑΒΕ**

ΑΝ $L \text{ MOD } 2 = 1$ **ΤΟΤΕ**

$M \leftarrow M + K$

ΤΕΛΟΣ_ΑΝ

$K \leftarrow K * 2$

$L \leftarrow L \text{ DIV } 2$

ΤΕΛΟΣ_ΕΠΑΝΑΛΗΨΗΣ

ΕΜΦΑΝΙΣΕ M

α) Να συμπληρώσετε τον παρακάτω πίνακα

	K	L	M
ΑΡΧΙΚΕΣ ΤΙΜΕΣ			
1η επανάληψη			
2η επανάληψη			
3η επανάληψη			
4η επανάληψη			
5η επανάληψη			

Μονάδες 15

β) Για ποια τιμή της μεταβλητής L τερματίζει ο αλγόριθμος;

Μονάδες 3

γ) Ποια είναι η τελική τιμή της μεταβλητής M ;

Μονάδες 2

ΘΕΜΑ 3ο

Για την εύρεση πόρων προκειμένου οι μαθητές της Δ΄ τάξης Εσπερινού Λυκείου να συμμετάσχουν σε εκδρομή οργανώνεται λαχειοφόρος αγορά.

Οι μαθητές του Λυκείου διαθέτουν λαχνούς στα σχολεία της περιοχής τους. Διακόσιοι μαθητές από δεκαπέντε διαφορετικά σχολεία αγόρασαν ο καθένας από έναν μόνο λαχνό. Μετά από κλήρωση ένας μαθητής κερδίζει τον πρώτο λαχνό.

Να γίνει τμήμα αλγορίθμου που

α) για κάθε μαθητή που αγόρασε λαχνό να εισάγει σε μονοδιάστατο πίνακα **A** 200 θέσεων το επώνυμό του και στην αντίστοιχη θέση μονοδιάστατου πίνακα **B** 200 θέσεων το όνομα του σχολείου του,

Μονάδες 3

β) να εισάγει σε μονοδιάστατο πίνακα **Σ** 15 θέσεων τα ονόματα όλων των σχολείων της περιοχής και στις αντίστοιχες θέσεις μονοδιάστατου πίνακα **M** 15 θέσεων τις ηλεκτρονικές διευθύνσεις των σχολείων,

Μονάδες 4

γ) να διαβάξει το επώνυμο του μαθητή, που κέρδισε τον πρώτο λαχνό,

Μονάδες 1

δ) χρησιμοποιώντας τον αλγόριθμο της σειριακής αναζήτησης να προσδιορίζει τη θέση του επωνύμου του

τυχερού μαθητή στον πίνακα **A**. Στη συνέχεια στον πίνακα **B** να βρίσκει το όνομα του σχολείου που φοιτά,

Μονάδες 5

ε) λαμβάνοντας υπόψη το όνομα του σχολείου που φοιτά ο τυχερός μαθητής και χρησιμοποιώντας τον αλγόριθμο της σειριακής αναζήτησης να προσδιορίζει την θέση του σχολείου στον πίνακα **Σ**. Στη συνέχεια στον πίνακα **M** να βρίσκει τη διεύθυνση του ηλεκτρονικού ταχυδρομείου του σχολείου αυτού,

Μονάδες 5

στ) να εμφανίζει το επώνυμο του τυχερού μαθητή, το όνομα του σχολείου του και τη διεύθυνση του ηλεκτρονικού ταχυδρομείου του σχολείου του.

Μονάδες 2

Σημείωση:

Να θεωρήσετε ότι δεν υπάρχουν μαθητές με το ίδιο επώνυμο και ότι κάθε μαθητής αγόρασε έναν μόνο λαχνό.

ΘΕΜΑ 4ο

Σε ένα πανελλήνιο σχολικό διαγωνισμό μετέχουν 20 σχολεία. Κάθε σχολείο αξιολογεί 5 άλλα σχολεία και δεν αυτοαξιολογείται. Η βαθμολογία κυμαίνεται από 1 έως και 10.

Να γραφεί τμήμα αλγορίθμου που

α) να διαβάξει τα ονόματα των σχολείων και να τα αποθηκεύει σε μονοδιάστατο πίνακα **A** 20 θέσεων,

Μονάδες 2

β) να εισάγει αρχικά την τιμή 0 σε όλες τις θέσεις ενός δισδιάστατου πίνακα **B** 20 γραμμών και 20 στηλών.

Μονάδες 2

γ) Να καταχωρίζει στον πίνακα **B** τη βαθμολογία που δίνει κάθε σχολείο για 5 άλλα σχολεία.

Σημείωση:

Στη θέση **i,j** του πίνακα **B** αποθηκεύεται ο βαθμός που το σχολείο **i** δίνει στο σχολείο **j**, όπως φαίνεται στο παράδειγμα που ακολουθεί.

Μονάδες 6

δ) να υπολογίζει τη συνολική βαθμολογία του κάθε σχολείου και να την καταχωρίζει σε μονοδιάστατο πίνακα 20 θέσεων με όνομα **SUM**,

Μονάδες 4

ε) να εμφανίζει τα ονόματα και τη συνολική βαθμολογία όλων των σχολείων κατά φθίνουσα σειρά της συνολικής βαθμολογίας.

Μονάδες 6Παράδειγμα

	Σχολείο 1	Σχολείο 2	...	Σχολείο 5	...	Σχολείο 18	Σχολείο 19	Σχολείο 20
Σχολείο 1					
Σχολείο 2	10		...	8	...	4	8	6
...
Σχολείο 20			...	4	...			

Στο ανωτέρω παράδειγμα:

Το Σχολείο2 έδωσε την παρακάτω βαθμολογία: στο Σχολείο1 το βαθμό 10, στο Σχολείο5 το βαθμό 8, στο Σχολείο18 το βαθμό 4, στο Σχολείο19 το βαθμό 8, και στο Σχολείο20 το βαθμό 6.

Το Σχολείο5 έχει πάρει την παρακάτω βαθμολογία: από το Σχολείο2 το βαθμό 8 και από το Σχολείο20 το βαθμό 4.

ΟΔΗΓΙΕΣ (προς τους εξεταζόμενους)

1. Στο τετράδιο να γράψετε μόνο τα προκαταρκτικά (ημερομηνία, κατεύθυνση, εξεταζόμενο μάθημα). Τα θέματα να μην τα αντιγράψετε στο τετράδιο.
2. Να γράψετε το ονοματεπώνυμό σας στο πάνω μέρος των φωτοαντιγράφων αμέσως μόλις σας παραδοθούν. Καμιά άλλη σημείωση δεν επιτρέπεται να γράψετε. Κατά την αποχώρησή σας να παραδώσετε μαζί με το τετράδιο και τα φωτοαντίγραφα.
3. Να απαντήσετε στο τετράδιό σας σε όλα τα θέματα.
4. Κάθε λύση επιστημονικά τεκμηριωμένη είναι αποδεκτή.
5. Διάρκεια εξέτασης: Τρεις (3) ώρες μετά τη διανομή των φωτοαντιγράφων.
6. Χρόνος δυνατής αποχώρησης : Μία (1) ώρα μετά τη διανομή των φωτοαντιγράφων.

ΚΑΛΗ ΕΠΙΤΥΧΙΑ**ΤΕΛΟΣ ΜΗΝΥΜΑΤΟΣ**

**ΑΠΟΛΥΤΗΡΙΕΣ ΕΞΕΤΑΣΕΙΣ Α΄ ΤΑΞΗΣ
ΕΣΠΕΡΙΝΟΥ ΕΝΙΑΙΟΥ ΛΥΚΕΙΟΥ
ΠΑΡΑΣΚΕΥΗ 2 ΙΟΥΝΙΟΥ 2006
ΕΞΕΤΑΖΟΜΕΝΟ ΜΑΘΗΜΑ ΤΕΧΝΟΛΟΓΙΚΗΣ
ΚΑΤΕΥΘΥΝΣΗΣ (ΚΥΚΛΟΣ ΠΛΗΡΟΦΟΡΙΚΗΣ ΚΑΙ
ΥΠΗΡΕΣΙΩΝ):
ΑΝΑΠΤΥΞΗ ΕΦΑΡΜΟΓΩΝ ΣΕ ΠΡΟΓΡΑΜΜΑΤΙΣΤΙΚΟ
ΠΕΡΙΒΑΛΛΟΝ
ΣΥΝΟΛΟ ΣΕΛΙΔΩΝ: ΕΞΙ (6)**

ΘΕΜΑ 1ο

A. 1. Να δώσετε τον ορισμό του προβλήματος.

Μονάδες 3

2. Να περιγράψετε τα στάδια αντιμετώπισης ενός προβλήματος.

Μονάδες 3

3. Να περιγράψετε τους τύπους δεδομένων που υποστηρίζει η ΓΛΩΣΣΑ.

Μονάδες 8

B. Να μεταφέρετε στο τετράδιό σας τον παρακάτω πίνακα και να συμπληρώσετε κατάλληλα τις κενές θέσεις.

A	B	(ΟΧΙ A) Ή B	A ΚΑΙ B	A Ή B
ΨΕΥΔΗΣ	ΑΛΗΘΗΣ			
ΑΛΗΘΗΣ	ΨΕΥΔΗΣ			

Μονάδες 6

Γ. Να χαρακτηρίσετε καθεμιά από τις προτάσεις που ακολουθούν γράφοντας στο τετράδιό σας, δίπλα από τον αριθμό κάθε πρότασης, το γράμμα Σ, αν αυτή είναι **Σωστή**, ή το γράμμα Λ, αν αυτή είναι **Λανθασμένη**.

1. Ο πίνακας είναι μία δυναμική δομή δεδομένων.

Μονάδες 2



2. Οι λειτουργίες **ώθηση** και **απόθεση** είναι οι κύριες λειτουργίες σε μία στοίβα.

Μονάδες 2

3. Στην εντολή **ΓΙΑ** ο βρόχος επαναλαμβάνεται για προκαθορισμένο αριθμό επαναλήψεων.

Μονάδες 2

4. Η είσοδος σε κάθε βρόχο επανάληψης υποχρεωτικά γίνεται από την αρχή του.

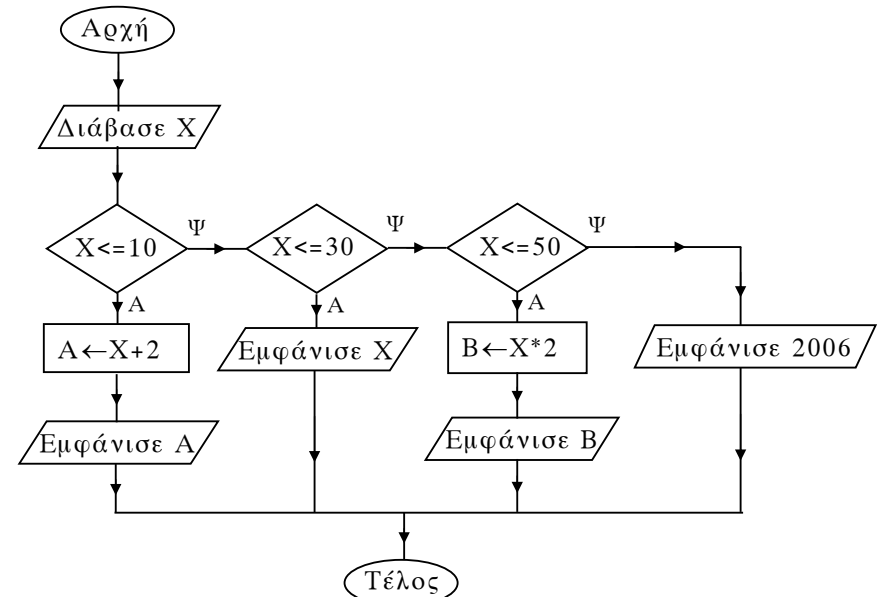
Μονάδες 2

5. Σε μια εντολή εκχώρησης δεν μπορεί να χρησιμοποιηθεί η ίδια μεταβλητή τόσο στο αριστερό όσο και στο δεξιό μέλος της.

Μονάδες 2



Δ. Δίνεται ο παρακάτω αλγόριθμος σε μορφή διαγράμματος ροής.



Να κατασκευάσετε ισοδύναμο αλγόριθμο σε ψευδογλώσσα.

Μονάδες 10

**ΘΕΜΑ 2ο**

Δίνεται το παρακάτω τμήμα αλγορίθμου:

$X \leftarrow 2$

ΟΣΟ $X \leq 12$ **ΕΠΑΝΑΛΑΒΕ**

$Y \leftarrow X + 1$

$Z \leftarrow Y * 2$

$W \leftarrow Z - Y + 1$

ΕΠΙΛΕΞΕ W

ΠΕΡΙΠΤΩΣΗ 4

ΕΜΦΑΝΙΣΕ Y, Z

ΠΕΡΙΠΤΩΣΗ 5

ΕΜΦΑΝΙΣΕ Z

ΠΕΡΙΠΤΩΣΗ 7

ΕΜΦΑΝΙΣΕ X, Y

ΠΕΡΙΠΤΩΣΗ ΑΛΛΙΩΣ

ΕΜΦΑΝΙΣΕ Y, Z, W

ΤΕΛΟΣ_ΕΠΙΛΟΓΩΝ

$X \leftarrow X + 3$

ΤΕΛΟΣ_ΕΠΑΝΑΛΗΨΗΣ

α. Ποιο είναι το πλήθος των επαναλήψεων που θα εκτελεστούν;

Μονάδες 3

β. Ποιες είναι οι τιμές των μεταβλητών που θα εμφανιστούν σε κάθε επανάληψη;

Μονάδες 15

γ. Ποια είναι η τελική τιμή της μεταβλητής X ;

Μονάδες 2

**ΘΕΜΑ 3ο**

Οι εκατό (100) υπάλληλοι μιας εταιρείας εργάζονται 40 ώρες την εβδομάδα. Κάθε ώρα υπερωρίας αμείβεται με 5 € (ευρώ). Να γράψετε αλγόριθμο ο οποίος:

A. Για καθένα από τους υπαλλήλους της εταιρείας

α. διαβάσει το όνομά του και για κάθε μέρα από τις πέντε (5) εργάσιμες της εβδομάδας διαβάσει τις ώρες εργασίας του.

Μονάδες 8

β. υπολογίζει τις εβδομαδιαίες ώρες εργασίας του.

Μονάδες 2

γ. εάν έχει εργαστεί περισσότερο από 40 ώρες την εβδομάδα, εμφανίζει το όνομά του και υπολογίζει και εμφανίζει την αμοιβή του για τις υπερωρίες του.

Μονάδες 6

B. Υπολογίζει και εμφανίζει, στο τέλος, το πλήθος των υπαλλήλων που έχουν εργαστεί λιγότερο από 40 ώρες την εβδομάδα.

Μονάδες 4

ΘΕΜΑ 4ο

Για τη διεκδίκηση μιας θέσης υποτροφίας, εξετάστηκαν και βαθμολογήθηκαν πενήντα (50) υποψήφιοι σε τρία μαθήματα. Ο υπολογισμός του τελικού βαθμού κάθε υποψηφίου γίνεται ως εξής:

Αν ο βαθμός του σε κάποιο από τα τρία μαθήματα είναι μικρότερος του 6, τότε ο τελικός βαθμός του είναι μηδέν (0). Διαφορετικά ο βαθμός του 1^{ου} μαθήματος συμμετέχει στον υπολογισμό του τελικού βαθμού με συντελεστή 20%, ο βαθμός του 2^{ου} μαθήματος με συντελεστή 35% και ο βαθμός του 3^{ου} μαθήματος με συντελεστή 45%.

Να αναπτύξετε αλγόριθμο ο οποίος:

α. Διαβάξει τα ονόματα των 50 υποψηφίων και τα καταχωρίζει σε πίνακα.

Μονάδες 2

β. Διαβάξει για κάθε υποψήφιο τους βαθμούς του σε καθένα από τα τρία μαθήματα και τους καταχωρίζει σε πίνακα δύο διαστάσεων, ελέγχοντας ότι ο βαθμός κάθε μαθήματος είναι από 0 έως και 10.

Μονάδες 3

γ. Υπολογίζει τον τελικό βαθμό κάθε υποψηφίου και τον καταχωρίζει σε πίνακα.

Μονάδες 5

δ. Ταξινομεί τα ονόματα και τους τελικούς βαθμούς των υποψηφίων σε φθίνουσα σειρά ως προς τον τελικό βαθμό.

Μονάδες 4

ε. Εμφανίζει για όσους υποψηφίους έχουν τελικό βαθμό μεγαλύτερο του μηδενός (0) το όνομα και τον τελικό βαθμό τους.

Μονάδες 3

στ. Εμφανίζει το ποσοστό των υποψηφίων που έχουν τελικό βαθμό μηδέν (0).

Μονάδες 3

ΟΔΗΓΙΕΣ ΓΙΑ ΤΟΥΣ ΕΞΕΤΑΖΟΜΕΝΟΥΣ

1. Στο τετράδιο να γράψετε μόνο τα προκαταρκτικά (ημερομηνία, κατεύθυνση, εξεταζόμενο μάθημα). Τα θέματα να μην τα αντιγράψετε στο τετράδιο.

2. Να γράψετε το ονοματεπώνυμό σας στο πάνω μέρος των φωτοαντιγράφων αμέσως μόλις σας παραδοθούν. Καμιά άλλη σημείωση δεν επιτρέπεται να γράψετε.

Κατά την αποχώρησή σας να παραδώσετε μαζί με το τετράδιο και τα φωτοαντίγραφα.

3. Να απαντήσετε στο τετράδιό σας σε όλα τα θέματα.

4. Κάθε λύση επιστημονικά τεκμηριωμένη είναι αποδεκτή.

5. Διάρκεια εξέτασης: Τρεις (3) ώρες μετά τη διανομή των φωτοαντιγράφων.

6. Χρόνος δυνατής αποχώρησης: Μία (1) ώρα μετά τη διανομή των φωτοαντιγράφων.

ΕΥΧΟΜΑΣΤΕ ΕΠΙΤΥΧΙΑ

ΤΕΛΟΣ ΜΗΝΥΜΑΤΟΣ

ΑΠΟΛΥΤΗΡΙΕΣ ΕΞΕΤΑΣΕΙΣ Α΄ ΤΑΞΗΣ
ΕΣΠΕΡΙΝΟΥ ΓΕΝΙΚΟΥ ΛΥΚΕΙΟΥ
ΠΑΡΑΣΚΕΥΗ 1 ΙΟΥΝΙΟΥ 2007
ΕΞΕΤΑΖΟΜΕΝΟ ΜΑΘΗΜΑ ΤΕΧΝΟΛΟΓΙΚΗΣ
ΚΑΤΕΥΘΥΝΣΗΣ (ΚΥΚΛΟΣ ΠΛΗΡΟΦΟΡΙΚΗΣ ΚΑΙ
ΥΠΗΡΕΣΙΩΝ):
ΑΝΑΠΤΥΞΗ ΕΦΑΡΜΟΓΩΝ ΣΕ ΠΡΟΓΡΑΜΜΑΤΙΣΤΙΚΟ
ΠΕΡΙΒΑΛΛΟΝ
ΣΥΝΟΛΟ ΣΕΛΙΔΩΝ: ΕΞΙ (6)

ΘΕΜΑ 1ο

Α. 1. Τι είναι οι τελεστές και ποιες είναι οι κατηγορίες των τελεστών;

Μονάδες 4

2. Να δώσετε τον ορισμό της δομής δεδομένων.

Μονάδες 3

3. Να γράψετε τους κανόνες που πρέπει να ακολουθούνται στη χρήση των εμφωλευμένων βρόχων.

Μονάδες 9

Β. Δίνεται η παρακάτω εντολή:

Για Α από Β μέχρι Γ με_βήμα Δ
Εμφάνισε "ΚΑΛΗΣΠΕΡΑ"

Τέλος_επανάληψης

Να γράψετε στο τετράδιό σας πόσες φορές εκτελείται η εντολή Εμφάνισε για καθένα από τους παρακάτω συνδυασμούς των τιμών των μεταβλητών Β, Γ και Δ:

- | | | | |
|----|--------|--------|---------|
| 1. | B = 2 | Γ = 5 | Δ = 1 |
| 2. | B = -1 | Γ = 1 | Δ = 0,5 |
| 3. | B = -7 | Γ = -6 | Δ = -5 |
| 4. | B = 5 | Γ = 5 | Δ = 1 |

Μονάδες 8



Γ. Να χαρακτηρίσετε καθεμιά από τις προτάσεις που ακολουθούν γράφοντας στο τετράδιό σας, δίπλα από τον αριθμό κάθε πρότασης, το γράμμα Σ, αν αυτή είναι Σωστή, ή το γράμμα Λ, αν αυτή είναι Λανθασμένη.

1. Κατά την εκτέλεση του προγράμματος η εντολή ΔΙΑΒΑΣΕ διακόπτει την εκτέλεσή του και περιμένει την εισαγωγή τιμών από το πληκτρολόγιο.

Μονάδες 2

2. Η στοίβα χρησιμοποιεί δύο δείκτες.

Μονάδες 2

3. Ένα επιλύσιμο πρόβλημα μπορεί να είναι αδόμητο.

Μονάδες 2

4. Η χρήση της εντολής ΕΠΙΛΕΞΕ λόγω της συμπαγούς δομής αποτελεί μειονέκτημα στο προγραμματισμό.

Μονάδες 2

5. Η σύγκριση λογικών δεδομένων έχει έννοια μόνο στην περίπτωση του ίσου (=) και του διάφορου (<>).

Μονάδες 2



Δ. Να γράψετε στο τετράδιό σας καθένα από τους αριθμούς της Στήλης Α και δίπλα του ένα γράμμα της Στήλης Β, ώστε να προκύπτει η σωστή αντιστοίχιση.

Στήλη Α όνομα μεταβλητής	Στήλη Β χαρακτηρισμός
1. Φ.Π.Α.	α. αποδεκτή
2. 2ΑΒ	
3. ΒΑΘΜΟΣ	
4. "ΜΙΣΘΟΣ"	
5. Α32	β. μη αποδεκτή
6. ΑΚΕΡΑΙΟΣ	

Μονάδες 6

ΘΕΜΑ 2ο

Δίνεται το παρακάτω τμήμα αλγορίθμου:

$X \leftarrow 2$

ΑΡΧΗ_ΕΠΑΝΑΛΗΨΗΣ

$Y \leftarrow X \text{ DIV } 2$

$Z \leftarrow A_M(X/3)$

ΑΝ $Z > 0$ ΤΟΤΕ

$A \leftarrow Z$

ΑΛΛΙΩΣ

$A \leftarrow Y$

ΤΕΛΟΣ_ΑΝ

ΓΡΑΨΕ X, Y, Z, A

$X \leftarrow X + 3$

ΜΕΧΡΙΣ_ΟΤΟΥ $X > 10$

- α. Να γράψετε στο τετράδιό σας τις τιμές των μεταβλητών που θα εμφανιστούν σε κάθε επανάληψη.



Μονάδες 12

- β. Να μετατρέψετε το παραπάνω τμήμα αλγορίθμου σε ισοδύναμο με χρήση της δομής επανάληψης ΓΙΑ...ΑΠΟ...ΜΕΧΡΙ...ΜΕ_ΒΗΜΑ.



Μονάδες 8



ΘΕΜΑ 3ο

Μία εταιρεία ασφάλισης οχημάτων καθορίζει το ετήσιο κόστος ασφάλισης ανά τύπο οχήματος (δίκυκλο ή αυτοκίνητο) και κυβισμό, σύμφωνα με τους παρακάτω πίνακες:

ΔΙΚΥΚΛΟ	
Κυβισμός (σε κυβικά εκατοστά)	Κόστος Ασφάλισης (σε ευρώ)
έως και 125	100
πάνω από 125	140

ΑΥΤΟΚΙΝΗΤΟ	
Κυβισμός (σε κυβικά εκατοστά)	Κόστος Ασφάλισης (σε ευρώ)
έως και 1400	400
από 1401 έως και 1800	500
πάνω από 1800	700

Αν η ηλικία του οδηγού είναι από 18 έως και 24 ετών τότε το κόστος της ασφάλισης του οχήματος προσαυξάνεται κατά 10%.

Να αναπτύξετε αλγόριθμο, ο οποίος:

- α. Να διαβάζει την ηλικία ενός οδηγού, τον τύπο του οχήματος και τον κυβισμό του, ελέγχοντας ώστε ο τύπος του οχήματος να είναι «ΔΙΚΥΚΛΟ» ή «ΑΥΤΟΚΙΝΗΤΟ».

Μονάδες 6

- β. Να υπολογίζει και να εμφανίζει το ετήσιο κόστος ασφάλισης του οχήματος.

Μονάδες 14

Σημείωση: Να θεωρήσετε ότι η ηλικία του οδηγού είναι τουλάχιστον 18 ετών.

ΘΕΜΑ 4°

Σε ένα πανεπιστημιακό τμήμα εισήχθησαν κατόπιν γενικών εξετάσεων 235 φοιτητές προερχόμενοι από την ΤΕΧΝΟΛΟΓΙΚΗ ή τη ΘΕΤΙΚΗ κατεύθυνση.

Να αναπτύξετε αλγόριθμο, ο οποίος:

α. Για καθένα από τους 235 φοιτητές διαβάσει:

- το ονοματεπώνυμό του,
- τα μόρια εισαγωγής του,
- την κατεύθυνσή του, η οποία μπορεί να είναι «ΤΕΧΝΟΛΟΓΙΚΗ» ή «ΘΕΤΙΚΗ», ελέγχοντας την εγκυρότητα εισαγωγής της

και καταχωρίζει τα δεδομένα αυτά σε τρεις πίνακες.

Μονάδες 4

β. Υπολογίζει και εμφανίζει:

1. το μέσο όρο των μορίων εισαγωγής των φοιτητών που προέρχονται από την ΤΕΧΝΟΛΟΓΙΚΗ κατεύθυνση.

Μονάδες 5

2. το ποσοστό των φοιτητών, που προέρχονται από την ΤΕΧΝΟΛΟΓΙΚΗ κατεύθυνση.

Μονάδες 2

3. την κατεύθυνση, από την οποία προέρχεται ο φοιτητής με τα περισσότερα μόρια εισαγωγής (να θεωρήσετε ότι δεν υπάρχει περίπτωση ισοβαθμίας).

Μονάδες 5

4. τα ονοματεπώνυμα των φοιτητών που προέρχονται από την ΤΕΧΝΟΛΟΓΙΚΗ κατεύθυνση, για τους οποίους τα μόρια εισαγωγής τους είναι περισσότερα από το μέσο όρο των μορίων εισαγωγής των φοιτητών που προέρχονται από την ΤΕΧΝΟΛΟΓΙΚΗ κατεύθυνση.

Μονάδες 4

ΟΔΗΓΙΕΣ ΓΙΑ ΤΟΥΣ ΕΞΕΤΑΖΟΜΕΝΟΥΣ

1. Στο τετράδιο να γράψετε μόνο τα προκαταρκτικά (ημερομηνία, κατεύθυνση, εξεταζόμενο μάθημα). Να μην αντιγράψετε τα θέματα στο τετράδιο.
2. Να γράψετε το ονοματεπώνυμό σας στο πάνω μέρος των φωτοαντιγράφων αμέσως μόλις σας παραδοθούν. Δεν επιτρέπεται να γράψετε οποιαδήποτε άλλη σημείωση. Κατά την αποχώρησή σας να παραδώσετε μαζί με το τετράδιο και τα φωτοαντίγραφα.
3. Να απαντήσετε στο τετράδιό σας σε όλα τα θέματα.
4. Κάθε λύση επιστημονικά τεκμηριωμένη είναι αποδεκτή.
5. Διάρκεια εξέτασης: Τρεις (3) ώρες μετά τη διανομή των φωτοαντιγράφων.
6. Χρόνος δυνατής αποχώρησης: Μία (1) ώρα μετά τη διανομή των φωτοαντιγράφων.

ΕΥΧΟΜΑΣΤΕ ΕΠΙΤΥΧΙΑ

ΤΕΛΟΣ ΜΗΝΥΜΑΤΟΣ

ΑΠΟΛΥΤΗΡΙΕΣ ΕΞΕΤΑΣΕΙΣ Α΄ ΤΑΞΗΣ
ΕΣΠΕΡΙΝΟΥ ΓΕΝΙΚΟΥ ΛΥΚΕΙΟΥ
ΠΑΡΑΣΚΕΥΗ 30 ΜΑΪΟΥ 2008
ΕΞΕΤΑΖΟΜΕΝΟ ΜΑΘΗΜΑ ΤΕΧΝΟΛΟΓΙΚΗΣ
ΚΑΤΕΥΘΥΝΣΗΣ (ΚΥΚΛΟΣ ΠΛΗΡΟΦΟΡΙΚΗΣ ΚΑΙ
ΥΠΗΡΕΣΙΩΝ):
ΑΝΑΠΤΥΞΗ ΕΦΑΡΜΟΓΩΝ ΣΕ ΠΡΟΓΡΑΜΜΑΤΙΣΤΙΚΟ
ΠΕΡΙΒΑΛΛΟΝ
ΣΥΝΟΛΟ ΣΕΛΙΔΩΝ: ΠΕΝΤΕ (5)

ΘΕΜΑ 1ο

Α. 1. Ποια είναι τα κυριότερα χρησιμοποιούμενα γεωμετρικά σχήματα σε ένα διάγραμμα ροής και τι ενέργεια ή λειτουργία δηλώνει το καθένα;

Μονάδες 8

2. Πότε ένα πρόβλημα χαρακτηρίζεται

α. απόφασης;

Μονάδες 4

β. βελτιστοποίησης;

Μονάδες 4

Β. Δίνεται το παρακάτω τμήμα αλγορίθμου:

$K \leftarrow 1$

ΟΣΟ $K \leq 200$ ΕΠΑΝΑΛΑΒΕ

ΕΜΦΑΝΙΣΕ K

$K \leftarrow K + 2$

ΤΕΛΟΣ_ΕΠΑΝΑΛΗΨΗΣ

Να γράψετε στο τετράδιό σας

α. τις σταθερές,

β. τους αριθμητικούς τελεστές,

γ. τους συγκριτικούς τελεστές,

δ. τις λογικές εκφράσεις.

Μονάδες 6



Γ. Να χαρακτηρίσετε καθεμιά από τις προτάσεις που ακολουθούν γράφοντας στο τετράδιό σας, δίπλα από τον αριθμό κάθε πρότασης, το γράμμα Σ, αν αυτή είναι Σωστή, ή το γράμμα Λ, αν αυτή είναι Λανθασμένη.

1. Ο τελεστής MOD χρησιμοποιείται για τον υπολογισμό του ηλίκου μίας διαίρεσης ακεραίων αριθμών.

Μονάδες 2

2. Η μεταφορά δεδομένων είναι μία από τις βασικές λειτουργίες που εκτελεί ο υπολογιστής.

Μονάδες 2

3. Κάθε εντολή ενός αλγορίθμου πρέπει να καθορίζεται χωρίς αμφιβολία για τον τρόπο εκτέλεσής της.

Μονάδες 2

4. Στην αριθμητική έκφραση $A+B*Γ$ εκτελείται πρώτα η πρόσθεση και μετά ο πολλαπλασιασμός.

Μονάδες 2

5. Οι δεσμευμένες λέξεις της ΓΛΩΣΣΑΣ δεν μπορούν να χρησιμοποιηθούν ως ονόματα δεδομένων σε ένα πρόγραμμα.

Μονάδες 2



Δ. Να γράψετε στο τετράδιό σας καθέναν από τους αριθμούς της Στήλης Α και δίπλα του ένα γράμμα της Στήλης Β, ώστε να προκύπτει η σωστή αντιστοίχιση.

ΣΤΗΛΗ Α	ΣΤΗΛΗ Β
1. Ουρά	α. Ωθηση
2. Λογικός τελεστής	β. ΑΛΗΘΗΣ
3. Στοιβά	γ. ΚΑΙ
4. Λογική σταθερά	δ. Δύο δείκτες

Μονάδες 8

ΘΕΜΑ 2ο

A. Δίνεται το παρακάτω τμήμα αλγορίθμου:

$$X \leftarrow 2$$

ΑΡΧΗ_ΕΠΑΝΑΛΗΨΗΣ

ΑΝ $X \bmod 4 > 2$ ΤΟΤΕ

$$X \leftarrow X + 2$$

ΑΛΛΙΩΣ

$$X \leftarrow X + 3$$

ΤΕΛΟΣ_ΑΝ

ΕΜΦΑΝΙΣΕ X

ΜΕΧΡΙΣ_ΟΤΟΥ $X > 15$

α. Ποιο είναι το πλήθος των επαναλήψεων που θα εκτελεστούν;

Μονάδες 2

β. Να γράψετε στο τετράδιό σας την τιμή της μεταβλητής X που θα εμφανιστεί σε κάθε επανάληψη.

Μονάδες 10

γ. Ποια είναι η τελική τιμή της μεταβλητής X;

Μονάδες 2

B. Δίνεται το παρακάτω τμήμα αλγορίθμου:

$$\text{MAX} \leftarrow A[1]$$

$$\text{MIN} \leftarrow A[1]$$

ΓΙΑ i ΑΠΟ 1 ΜΕΧΡΙ 5

ΑΝ $A[i] < \text{MIN}$ ΤΟΤΕ

$$\text{MIN} \leftarrow A[i]$$

ΑΛΛΙΩΣ

ΑΝ $A[i] > \text{MAX}$ ΤΟΤΕ

$$\text{MAX} \leftarrow A[i]$$

ΤΕΛΟΣ_ΑΝ

ΤΕΛΟΣ_ΑΝ

ΤΕΛΟΣ_ΕΠΑΝΑΛΗΨΗΣ

ΕΜΦΑΝΙΣΕ MIN, MAX

Να μετατρέψετε το παραπάνω τμήμα αλγορίθμου σε ισοδύναμο με χρήση της δομής επανάληψης ΟΣΟ ... ΕΠΑΝΑΛΑΒΕ.

Μονάδες 6



ΘΕΜΑ 3ο

Για την ανάδειξη του επταμελούς (7) Διοικητικού Συμβουλίου ενός Πολιτιστικού Συλλόγου υπάρχουν 20 υποψήφιοι. Να γράψετε αλγόριθμο ο οποίος

α. διαβάζει τα ονόματα των υποψηφίων και τα αποθηκεύει σε πίνακα.

Μονάδες 4

β. διαβάζει για κάθε υποψήφιο τον αριθμό των ψήφων που έλαβε και τον αποθηκεύει σε πίνακα.

Μονάδες 4

γ. εμφανίζει τα ονόματα των εκλεγέντων μελών του Διοικητικού Συμβουλίου κατά φθίνουσα σειρά ψήφων (να θεωρηθεί ότι δεν υπάρχουν περιπτώσεις ισοψηφίας).

Μονάδες 6

δ. διαβάζει το όνομα ενός υποψηφίου και ελέγχει αν ο συγκεκριμένος εκλέγεται ή όχι, εμφανίζοντας κατάλληλο μήνυμα.

Μονάδες 6

ΘΕΜΑ 4ο

Ένας επενδυτής διέθεσε 10.000 € για την αγορά ορισμένων τεμαχίων 10 διαφορετικών μετοχών. Να γράψετε αλγόριθμο ο οποίος:

α. Για καθεμία από τις 10 μετοχές διαβάζει

- το όνομα της μετοχής,
- το πλήθος των τεμαχίων της μετοχής, που κατέχει ο επενδυτής, ελέγχοντας το πλήθος να είναι θετικός αριθμός, και καταχωρίζει τα δεδομένα αυτά σε σχετικούς πίνακες.

Μονάδες 3

β. Για καθεμία από τις 10 μετοχές και για καθεμία από τις πέντε (5) εργάσιμες ημέρες της εβδομάδας διαβάζει την τιμή ενός τεμαχίου της μετοχής και την αποθηκεύει σε κατάλληλο πίνακα δύο διαστάσεων, ελέγχοντας η τιμή του τεμαχίου να είναι θετικός αριθμός.

Μονάδες 4

- γ. Για καθεμία από τις 10 μετοχές υπολογίζει τη μέση εβδομαδιαία τιμή του τεμαχίου της και την αποθηκεύει σε μονοδιάστατο πίνακα.

Μονάδες 5

- δ. Υπολογίζει και εμφανίζει τη συνολική αξία όλων των τεμαχίων όλων των μετοχών του επενδυτή, την τελευταία ημέρα της εβδομάδας.

Μονάδες 5

- ε. Υπολογίζει εάν ο επενδυτής στο τέλος της εβδομάδας έχει κέρδος ή ζημία ή καμία μεταβολή σε σχέση με το αρχικό ποσό που διέθεσε, εμφανίζοντας κατάλληλα μηνύματα.

Μονάδες 3

ΟΔΗΓΙΕΣ ΠΡΟΣ ΤΟΥΣ ΥΠΟΨΗΦΙΟΥΣ

1. Στο τετράδιο να γράψετε μόνο τα προκαταρκτικά (ημερομηνία, κατεύθυνση, εξεταζόμενο μάθημα). **Δεν θα αντιγράψετε** τα θέματα στο τετράδιο.
2. Να γράψετε το ονοματεπώνυμό σας στο πάνω μέρος των φωτοαντιγράφων, αμέσως μόλις σας παραδοθούν. **Δεν επιτρέπεται να γράψετε οποιαδήποτε άλλη σημείωση.**
Κατά την αποχώρησή σας να παραδώσετε μαζί με το τετράδιο και τα φωτοαντίγραφα.
3. Να απαντήσετε **στο τετράδιό σας σε όλα** τα θέματα.
4. Να γράψετε τις απαντήσεις σας μόνο με μπλε ή μόνο με μαύρο στυλό.
5. Κάθε λύση επιστημονικά τεκμηριωμένη είναι αποδεκτή.
6. Διάρκεια εξέτασης: τρεις (3) ώρες μετά τη διανομή των φωτοαντιγράφων.
7. Ώρα δυνατής αποχώρησης η 8.30' απογευματινή.

ΣΑΣ ΕΥΧΟΜΑΣΤΕ ΕΠΙΤΥΧΙΑ

ΤΕΛΟΣ ΜΗΝΥΜΑΤΟΣ

**ΑΠΟΛΥΤΗΡΙΕΣ ΕΞΕΤΑΣΕΙΣ Α΄ ΤΑΞΗΣ
ΕΣΠΕΡΙΝΟΥ ΓΕΝΙΚΟΥ ΛΥΚΕΙΟΥ
ΣΑΒΒΑΤΟ 23 ΜΑΪΟΥ 2009
ΕΞΕΤΑΖΟΜΕΝΟ ΜΑΘΗΜΑ ΤΕΧΝΟΛΟΓΙΚΗΣ
ΚΑΤΕΥΘΥΝΣΗΣ (ΚΥΚΛΟΣ ΠΛΗΡΟΦΟΡΙΚΗΣ ΚΑΙ
ΥΠΗΡΕΣΙΩΝ):
ΑΝΑΠΤΥΞΗ ΕΦΑΡΜΟΓΩΝ ΣΕ ΠΡΟΓΡΑΜΜΑΤΙΣΤΙΚΟ
ΠΕΡΙΒΑΛΛΟΝ
ΣΥΝΟΛΟ ΣΕΛΙΔΩΝ: ΠΕΝΤΕ (5)**

ΘΕΜΑ 1ο



- Α.** Να χαρακτηρίσετε κάθε μία από τις προτάσεις που ακολουθούν γράφοντας στο τετράδιό σας, δίπλα από τον αριθμό κάθε πρότασης, το γράμμα **Σ**, αν αυτή είναι **Σωστή**, ή το γράμμα **Λ**, αν αυτή είναι **Λανθασμένη**.

1. Το σύμβολο = είναι αριθμητικός τελεστής.

Μονάδες 2

2. $A_M(X)$ είναι η συνάρτηση της ΓΛΩΣΣΑΣ που υπολογίζει την απόλυτη τιμή του X .

Μονάδες 2

3. Η μέθοδος της σειριακής αναζήτησης δικαιολογείται στην περίπτωση που ο πίνακας είναι μη ταξινομημένος και μικρού μεγέθους.

Μονάδες 2

4. Η μέθοδος επεξεργασίας FIFO εφαρμόζεται στη λειτουργία της ουράς.

Μονάδες 2

5. Η προσπέλαση είναι μια από τις βασικές πράξεις επί των δομών δεδομένων.

Μονάδες 2

Β. Δίνεται το παρακάτω τμήμα προγράμματος:



```

ΓΡΑΨΕ `Δώσε αριθμό`
ΔΙΑΒΑΣΕ A
ΕΠΙΛΕΞΕ A
    ΠΕΡΙΠΤΩΣΗ < 0
        ΓΡΑΨΕ `Αρνητικός`
    ΠΕΡΙΠΤΩΣΗ 0
        ΓΡΑΨΕ `Μηδέν`
    ΠΕΡΙΠΤΩΣΗ ΑΛΛΙΩΣ
        ΓΡΑΨΕ `Θετικός`
ΤΕΛΟΣ_ΕΠΙΛΟΓΩΝ
    
```

Να μετατραπεί σε ισοδύναμο με χρήση της δομής επιλογής **ΑΝ...ΤΟΤΕ...ΑΛΛΙΩΣ_ΑΝ**.

Μονάδες 11

Γ. Να αναφέρετε τις κατηγορίες που διακρίνονται τα προβλήματα με κριτήριο τον βαθμό δόμησής τους.



Μονάδες 6

Να δώσετε ένα παράδειγμα σε κάθε κατηγορία.

Μονάδες 3

Δ. Δίνονται οι τιμές των μεταβλητών $A=8$, $B=3$, $\Gamma=-2$ και $\Delta=-1$. Να χαρακτηρίσετε κάθε μία από τις παρακάτω εκφράσεις αν είναι **ΑΛΗΘΗΣ** ή **ΨΕΥΔΗΣ**.

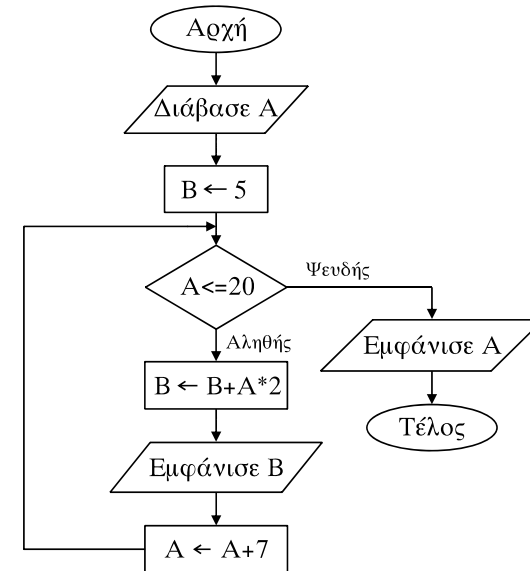


1. $A \text{ MOD } B \geq A_T(\Gamma)$
2. $A*2 - B^2 \leq (\Gamma + A) / \Delta$
3. $B \text{ DIV } (A + \Gamma) \ll 0$
4. $A * \Gamma - \Delta \geq -(17 \text{ MOD } A)$
5. $B * \Delta \leq A * \Gamma$

Μονάδες 10

ΘΕΜΑ 2ο

Δίνεται ο παρακάτω αλγόριθμος σε διάγραμμα ροής:



α. Να κατασκευάσετε ισοδύναμο αλγόριθμο σε ψευδογλώσσα.

Μονάδες 10



β. Να εκτελέσετε τον αλγόριθμο για $A=4$. Να γράψετε στο τετράδιό σας τις τιμές που θα εμφανιστούν.

Μονάδες 10

ΘΕΜΑ 3ο

Σε ένα πολυκατάστημα αποφασίστηκε να γίνεται κλιμακωτή έκπτωση στους πελάτες ανάλογα με το ποσό των αγορών τους, με βάση τον παρακάτω πίνακα:

Ποσό αγορών	Έκπτωση
έως και 300 €	2%
πάνω από 300 έως και 400 €	5%
πάνω από 400 €	7%

Να γραφεί αλγόριθμος που:

α. για κάθε πελάτη,

1. να διαβάξει το όνομά του και το ποσό των αγορών του.

Μονάδες 2

2. να υπολογίζει την έκπτωση που δικαιούται.

Μονάδες 7

3. να εμφανίζει το όνομά του και το ποσό που θα πληρώσει μετά την έκπτωση.

Μονάδες 3

β. να επαναλαμβάνει τη διαδικασία μέχρι να δοθεί ως όνομα πελάτη η λέξη “ΤΕΛΟΣ”.

Μονάδες 4

γ. να εμφανίζει μετά το τέλος της διαδικασίας τη συνολική έκπτωση που έγινε για όλους τους πελάτες.

Μονάδες 4

ΘΕΜΑ 4ο

Μια επιχείρηση που εμπορεύεται τηλεοράσεις διαθέτει 20 μοντέλα.

Να γραφεί αλγόριθμος που:

α. να διαβάξει τα ονόματα των μοντέλων και να τα αποθηκεύει σε μονοδιάστατο πίνακα.

Μονάδες 3

β. να διαβάξει για κάθε μοντέλο τον αριθμό των συσκευών που πουλήθηκαν κάθε μήνα, για ένα έτος, και να τον αποθηκεύει σε πίνακα δύο διαστάσεων, ελέγχοντας ώστε ο αριθμός αυτός να μην είναι αρνητικός.

Μονάδες 5

γ. να υπολογίζει και να εμφανίζει το σύνολο των ετήσιων πωλήσεων του κάθε μοντέλου.

Μονάδες 5

δ. να εμφανίζει κατά αλφαβητική σειρά τα ονόματα των μοντέλων καθώς και τον ετήσιο συνολικό αριθμό των συσκευών που πουλήθηκαν για κάθε μοντέλο.

Μονάδες 7

ΟΔΗΓΙΕΣ ΠΡΟΣ ΤΟΥΣ ΕΞΕΤΑΖΟΜΕΝΟΥΣ

1. Στο τετράδιο να γράψετε μόνο τα προκαταρκτικά (ημερομηνία, κατεύθυνση, εξεταζόμενο μάθημα). **Να μην αντιγράψετε** τα θέματα στο τετράδιο.
2. Να γράψετε το ονοματεπώνυμό σας στο πάνω μέρος των φωτοαντιγράφων αμέσως μόλις σας παραδοθούν. **Δεν επιτρέπεται να γράψετε** οποιαδήποτε άλλη σημείωση. Κατά την αποχώρησή σας να παραδώσετε μαζί με το τετράδιο και τα φωτοαντίγραφα.
3. Να απαντήσετε **στο τετράδιό σας** σε όλα τα θέματα.
4. Να γράψετε τις απαντήσεις σας μόνο με μπλε ή μόνο με μαύρο στυλό.
5. Κάθε απάντηση τεκμηριωμένη είναι αποδεκτή.
6. Διάρκεια εξέτασης: τρεις (3) ώρες μετά τη διανομή των φωτοαντιγράφων.
7. Χρόνος δυνατής αποχώρησης: μία (1) ώρα μετά τη διανομή των φωτοαντιγράφων.

ΚΑΛΗ ΕΠΙΤΥΧΙΑ

ΤΕΛΟΣ ΜΗΝΥΜΑΤΟΣ

ΑΠΟΛΥΤΗΡΙΕΣ ΕΞΕΤΑΣΕΙΣ Δ' ΤΑΞΗΣ
ΕΣΠΕΡΙΝΟΥ ΓΕΝΙΚΟΥ ΛΥΚΕΙΟΥ ΚΑΙ ΠΑΝΕΛΛΑΔΙΚΕΣ
ΕΞΕΤΑΣΕΙΣ ΕΣΠΕΡΙΝΟΥ ΕΠΑΛ (ΟΜΑΔΑΣ Β')
ΣΑΒΒΑΤΟ 22 ΜΑΪΟΥ 2010
ΕΞΕΤΑΖΟΜΕΝΟ ΜΑΘΗΜΑ ΤΕΧΝΟΛΟΓΙΚΗΣ
ΚΑΤΕΥΘΥΝΣΗΣ (ΚΥΚΛΟΣ ΠΛΗΡΟΦΟΡΙΚΗΣ ΚΑΙ
ΥΠΗΡΕΣΙΩΝ):
ΑΝΑΠΤΥΞΗ ΕΦΑΡΜΟΓΩΝ ΣΕ ΠΡΟΓΡΑΜΜΑΤΙΣΤΙΚΟ
ΠΕΡΙΒΑΛΛΟΝ
ΣΥΝΟΛΟ ΣΕΛΙΔΩΝ: ΕΞΙ (6)

ΘΕΜΑ Α

A1. Να χαρακτηρίσετε καθεμία από τις προτάσεις που ακολουθούν γράφοντας στο τετράδιό σας, τον αριθμό κάθε πρότασης και δίπλα του το γράμμα **Σ**, αν αυτή είναι **Σωστή**, ή το γράμμα **Λ**, αν αυτή είναι **Λανθασμένη**.



1. Οι λειτουργίες ώθηση και απώθηση είναι οι κύριες λειτουργίες σε μια ουρά. (μονάδες 2)
2. Ένα από τα στάδια αντιμετώπισης ενός προβλήματος είναι η ανάλυση. (μονάδες 2)
3. Ο τύπος μιας μεταβλητής μπορεί να αλλάξει κατά την εκτέλεση ενός προγράμματος. (μονάδες 2)
4. Η λογική πράξη ΚΑΙ μεταξύ δύο προτάσεων είναι ψευδής όταν οποιαδήποτε από τις δύο προτάσεις είναι ψευδής. (μονάδες 2)
5. Η ταξινόμηση των στοιχείων ενός πίνακα με τη μέθοδο της φυσαλίδας βασίζεται στην αρχή της σύγκρισης και αντιμετάθεσης ζευγών γειτονικών στοιχείων του πίνακα. (μονάδες 2)

Μονάδες 10

A2. Δίνεται το παρακάτω τμήμα αλγορίθμου:

Για i από -3 μέχρι A με βήμα B
Εμφάνισε i
Τέλος_επανάληψης

ΤΕΛΟΣ 1ΗΣ ΑΠΟ 6 ΣΕΛΙΔΕΣ



Να χαρακτηρίσετε καθεμία από τις προτάσεις που ακολουθούν και αναφέρονται στο παραπάνω τμήμα αλγορίθμου, γράφοντας στο τετράδιό σας, τον αριθμό κάθε πρότασης και δίπλα του το γράμμα **Σ**, αν αυτή είναι **Σωστή**, ή το γράμμα **Λ**, αν αυτή είναι **Λανθασμένη**.

1. Αν το A είναι 0 και το B είναι 1 δεν ικανοποιείται το κριτήριο της περατότητας. (μονάδες 2)
2. Αν το A είναι -3 και το B είναι 2 εμφανίζεται η τιμή -3 . (μονάδες 2)
3. Αν το A είναι μεγαλύτερο του 0 και το B είναι μικρότερο του -4 ο βρόχος δεν εκτελείται καμία φορά. (μονάδες 2)
4. Αν το A είναι 2 και το B είναι 2 ο βρόχος εκτελείται ακριβώς 3 φορές. (μονάδες 2)
5. Αν το A και το B είναι θετικοί αριθμοί, ο βρόχος μπορεί να μετατραπεί με τη χρήση της εντολής Όσο...επανάλαβε. (μονάδες 2)

Μονάδες 10



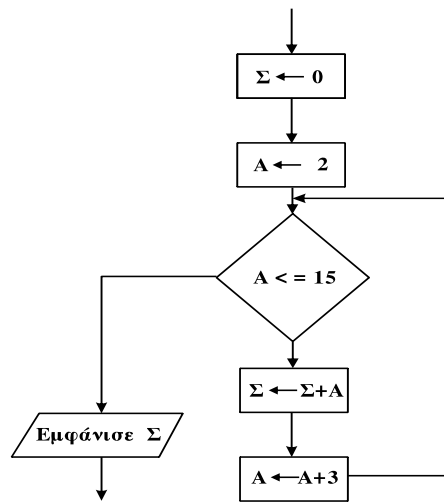
A3. Να μετατραπούν οι παρακάτω προτάσεις σε σύνθετες εκφράσεις (συνθήκες) στη ΓΛΩΣΣΑ:

1. Ο x είναι μεγαλύτερος του -1 και μικρότερος ή ίσος του 10. (μονάδες 2)
2. Ο x είναι ίσος με 1 ή με 5 ή με -40 . (μονάδες 2)
3. Ο x είναι μεγαλύτερος του 50 αλλά όχι ίσος με 100. (μονάδες 2)
4. Ο ακέραιος x είναι θετικός αριθμός πολλαπλάσιο του 3. (μονάδες 2)
5. Ο ακέραιος x διαιρείται ακριβώς με το 4 αλλά όχι με το 100. (μονάδες 2)

Μονάδες 10

ΤΕΛΟΣ 2ΗΣ ΑΠΟ 6 ΣΕΛΙΔΕΣ

Α4. Δίνεται το παρακάτω τμήμα διαγράμματος ροής:



Να μετατρέψετε σε ισοδύναμο τμήμα αλγορίθμου σε ψευδογλώσσα, χρησιμοποιώντας αποκλειστικά την εντολή επανάληψης Για...από...μέχρι...με_βήμα.

Μονάδες 10

ΘΕΜΑ Β

Β1. Δίνεται το παρακάτω τμήμα αλγορίθμου στο οποίο έχουν αριθμηθεί οι γραμμές:

1. ΔΙΑΒΑΣΕ Χ
2. ΔΙΑΒΑΣΕ Υ
3. ΑΡΧΗ_ΕΠΑΝΑΛΗΨΗΣ
4. ΑΝ Χ>Υ ΤΟΤΕ
5. Χ ← Χ DIV 2
6. ΑΛΛΙΩΣ
7. Υ ← Υ DIV 2
8. ΤΕΛΟΣ_ΑΝ
9. Ε ← Χ*Υ
10. ΜΕΧΡΙΣ_ΟΤΟΥ Ε<=2

Επίσης δίνεται υπόδειγμα πίνακα με συμπληρωμένες τις αρχικές τιμές των μεταβλητών Χ,Υ.

Αρ.Γραμμής	X	Y	E
1	17		
2		5	
...

Να μεταφέρετε τον πίνακα στο τετράδιό σας και, εκτελώντας το τμήμα προγράμματος, να τον συμπληρώσετε με αρχικές τιμές Χ=17 και Υ=5 που ήδη φαίνονται στον πίνακα. Για κάθε εντολή εκχώρησης τιμής που εκτελείται να γράψετε σε νέα γραμμή του πίνακα:

- α. Τον αριθμό της γραμμής που βρίσκεται η εντολή (στην πρώτη στήλη).
- β. Τη νέα τιμή της μεταβλητής η οποία επηρεάζεται από την εντολή (στην αντίστοιχη στήλη).

Μονάδες 20

ΘΕΜΑ Γ

Σε ΚΤΕΟ της χώρας το 2010 προσέρχονται οχήματα για έλεγχο. Τα οχήματα είναι τριών κατηγοριών ΦΟΡΤΗΓΟ, ΕΠΙΒΑΤΗΓΟ, ΔΙΚΥΚΛΟ και πληρώνουν 60€, 40€ και 20€ αντίστοιχα. Ένα όχημα χαρακτηρίζεται ως προς την προσέλευσή του “ΕΜΠΡΟΘΕΣΜΟ” ή “ΕΚΠΡΟΘΕΣΜΟ”. Τα οχήματα που προσέρχονται εκπρόθεσμα επιβαρύνονται με πρόστιμο 15,80€

Να αναπτύξετε πρόγραμμα σε “ΓΛΩΣΣΑ” το οποίο:

Γ1. Περιλαμβάνει τμήμα δηλώσεων μεταβλητών.

Μονάδες 2

Γ2. Για κάθε όχημα το οποίο προσέρχεται στο ΚΤΕΟ για έλεγχο

- α. διαβάζει την κατηγορία του, το έτος της πρώτης κυκλοφορίας και τον τύπο προσέλευσης χωρίς κανένα έλεγχο εγκυρότητας. (μονάδες 2)



β. υπολογίζει και εμφανίζει, με βάση την κατηγορία του και την εμπρόθεσμη ή εκπρόθεσμη προσέλευσή του, το ποσό πληρωμής. (μονάδες 4)

Η διαδικασία εισαγωγής δεδομένων τερματίζει όταν δοθεί η τιμή “Τ” σαν κατηγορία οχήματος.

Μονάδες 6

Γ3. Εμφανίζει το πλήθος των φορτηγών που προσήλθαν στο ΚΤΕΟ.

Μονάδες 3

Γ4. Εμφανίζει την κατηγορία του παλαιότερου οχήματος.

Μονάδες 5

Γ5. Εμφανίζει το συνολικό ποσό προστίμου.

Μονάδες 4

ΘΕΜΑ Δ

Σε μια δημοτική δανειστική βιβλιοθήκη υπάρχουν 158 μέλη που δανείζονται βιβλία.

Να γραφεί αλγόριθμος που:

Δ1. α. Για κάθε μέλος διαβάσει το επώνυμο και το φύλο του (Α=άνδρας, Γ=γυναίκα) και τα αποθηκεύει στους πίνακες ΜΕΛΗ και ΦΥΛΟ, αντίστοιχα. Να γίνεται έλεγχος εγκυρότητας εισαγωγής του φύλου. (μονάδες 4)

β. Για κάθε μήνα ενός έτους διαβάσει το πλήθος των βιβλίων που δανείστηκε κάθε μέλος και το αποθηκεύει στον πίνακα δύο διαστάσεων ΒΙΒΛΙΑ. (μονάδες 2)

Μονάδες 6

Δ2. Για κάθε μέλος υπολογίζει το συνολικό αριθμό των βιβλίων που δανείστηκε στο έτος και το αποθηκεύει στον πίνακα SUM.

Μονάδες 2

Δ3. α. Υπολογίζει το συνολικό αριθμό των βιβλίων που δανείστηκαν οι άνδρες. (μονάδες 2)

β. Υπολογίζει το συνολικό αριθμό των βιβλίων που δανείστηκαν οι γυναίκες. (μονάδες 2)

γ. Εμφανίζει κατάλληλο μήνυμα που δείχνει αν οι άνδρες ή οι γυναίκες έχουν δανειστεί τα περισσότερα βιβλία. Σε περίπτωση ίσων συνολικών αριθμών βιβλίων να εμφανίζει το μήνυμα “ΊΣΟΣ ΑΡΙΘΜΟΣ ΒΙΒΛΙΩΝ”. (μονάδες 2)

Μονάδες 6

Δ4. Να διαβάσει ένα επώνυμο και χρησιμοποιώντας τη σειριακή αναζήτηση, σε περίπτωση που το επώνυμο είναι αποθηκευμένο στον πίνακα ΜΕΛΗ, να εμφανίζει το σύνολο των βιβλίων που δανείστηκε στη διάρκεια του έτους. Σε περίπτωση που το επώνυμο δεν είναι αποθηκευμένο στον πίνακα να εμφανίζει το μήνυμα “ΤΟ ΕΠΩΝΥΜΟ ΑΥΤΟ ΔΕΝ ΥΠΑΡΧΕΙ”.

Μονάδες 6

Σημείωση: Δεν απαιτείται κανένας άλλος έλεγχος εγκυρότητας εισαγωγής. Δεν υπάρχει συνωνυμία επωνύμων.

ΟΔΗΓΙΕΣ (για τους εξεταζομένους)

1. Στο τετράδιο να γράψετε μόνο τα προκαταρκτικά (ημερομηνία, κατεύθυνση, εξεταζόμενο μάθημα). **Να μην αντιγράψετε** τα θέματα στο τετράδιο.
2. Να γράψετε το ονοματεπώνυμό σας στο πάνω μέρος των φωτοαντιγράφων, αμέσως μόλις σας παραδοθούν. **Δεν επιτρέπεται να γράψετε** οποιαδήποτε άλλη σημείωση. Κατά την αποχώρησή σας να παραδώσετε μαζί με το τετράδιο και τα φωτοαντίγραφα.
3. Να απαντήσετε **στο τετράδιό σας** σε όλα τα θέματα.
4. Να γράψετε τις απαντήσεις σας **μόνο με μπλε ή μόνο με μαύρο στυλό διαρκείας και μόνο ανεξίτηλης μελάνης**.
5. Κάθε απάντηση τεκμηριωμένη είναι αποδεκτή.
6. Διάρκεια εξέτασης: τρεις (3) ώρες μετά τη διανομή των φωτοαντιγράφων.
7. Χρόνος δυνατής αποχώρησης: μία (1) ώρα μετά τη διανομή των θεμάτων.

**ΚΑΛΗ ΕΠΙΤΥΧΙΑ
ΤΕΛΟΣ ΜΗΝΥΜΑΤΟΣ**

ΑΡΧΗ 1ΗΣ ΣΕΛΙΔΑΣ - Α΄ ΕΣΠΕΡΙΝΩΝ

ΠΑΝΕΛΛΗΝΙΕΣ ΕΞΕΤΑΣΕΙΣ Δ΄ ΤΑΞΗΣ

ΕΣΠΕΡΙΝΟΥ ΓΕΝΙΚΟΥ ΛΥΚΕΙΟΥ

ΔΕΥΤΕΡΑ 23 ΜΑΪΟΥ 2011

ΕΞΕΤΑΖΟΜΕΝΟ ΜΑΘΗΜΑ:

ΑΝΑΠΤΥΞΗ ΕΦΑΡΜΟΓΩΝ

ΣΕ ΠΡΟΓΡΑΜΜΑΤΙΣΤΙΚΟ ΠΕΡΙΒΑΛΛΟΝ

ΤΕΧΝΟΛΟΓΙΚΗΣ ΚΑΤΕΥΘΥΝΣΗΣ

(ΚΥΚΛΟΥ ΠΛΗΡΟΦΟΡΙΚΗΣ ΚΑΙ ΥΠΗΡΕΣΙΩΝ)

ΣΥΝΟΛΟ ΣΕΛΙΔΩΝ: ΠΕΝΤΕ (5)

ΘΕΜΑ Α

A1. Να γράψετε στο τετράδιό σας τον αριθμό καθεμιάς από τις παρακάτω προτάσεις **1-5** και δίπλα τη λέξη **ΣΩΣΤΟ**, αν είναι σωστή, ή τη λέξη **ΛΑΘΟΣ**, αν είναι λανθασμένη.

1. Ένα δομημένο πρόβλημα είναι επιλύσιμο.
2. Η λογική έκφραση $X \text{ Ή } (OXI \ X)$ είναι πάντα αληθής για κάθε τιμή της λογικής μεταβλητής X .
3. Ο αλγόριθμος της σειριακής αναζήτησης χρησιμοποιείται αποκλειστικά σε ταξινομημένους πίνακες.
4. Όταν το πλήθος των επαναλήψεων είναι γνωστό, δεν μπορεί να χρησιμοποιηθεί η εντολή επανάληψης Όσο ... Επανάλαβε.
5. Ο πίνακας είναι μία δομή που μπορεί να περιέχει στοιχεία διαφορετικού τύπου.

Μονάδες 10

A2. Δίνεται το παρακάτω τμήμα αλγορίθμου με αριθμημένες τις εντολές του:

- (1) $\Sigma \leftarrow 0$
- (2) $K \leftarrow 0$
- (3) Αρχή_Επανάληψης
- (4) Διάβασε X
- (5) $\Sigma \leftarrow \Sigma + X$
- (6) Αν $X > 0$ τότε
- (7) $K \leftarrow K + 1$
- (8) Τέλος_Αν
- (9) Μέχρις_ότου $\Sigma > 1000$
- (10) Εμφάνισε X

ΤΕΛΟΣ 1ΗΣ ΑΠΟ 5 ΣΕΛΙΔΕΣ

ΑΡΧΗ 2ΗΣ ΣΕΛΙΔΑΣ - Α΄ ΕΣΠΕΡΙΝΩΝ



Να γράψετε στο τετράδιό σας τον αριθμό καθεμιάς από τις παρακάτω προτάσεις **1-5** και δίπλα τη λέξη **ΣΩΣΤΟ**, αν είναι σωστή, ή τη λέξη **ΛΑΘΟΣ**, αν είναι λανθασμένη.

1. Η εντολή (4) θα εκτελεστεί τουλάχιστον μία φορά.
2. Η εντολή (1) θα εκτελεστεί ακριβώς μία φορά.
3. Στη μεταβλητή K καταχωρείται το πλήθος των θετικών αριθμών που δόθηκαν.
4. Η εντολή (7) εκτελείται πάντα λιγότερες φορές από την εντολή (4).
5. Η εντολή (6) εκτελείται λιγότερες φορές από την εντολή (4).

Μονάδες 10



A3. Δίνεται το παρακάτω τμήμα προγράμματος:

Αν $B < 80$ τότε

Αν $Y < 1.70$ τότε

Γράψε "Ελαφρύς, κοντός"

Τέλος_αν

Τέλος_αν

Να ξαναγράψετε στο τετράδιό σας το παραπάνω τμήμα προγράμματος χρησιμοποιώντας μόνο μία απλή εντολή Αν ... τότε ... Τέλος_αν.

Μονάδες 4



A4. Να ξαναγράψετε στο τετράδιό σας το παρακάτω τμήμα αλγορίθμου με αποκλειστική χρήση της δομής Όσο ... Επανάλαβε.

$\Sigma \leftarrow 0$

Για i από 1 μέχρι 100

Διάβασε X

$\Sigma \leftarrow \Sigma + X$

Τέλος_επανάληψης

Μονάδες 4

ΤΕΛΟΣ 2ΗΣ ΑΠΟ 5 ΣΕΛΙΔΕΣ

- A5. α. Να δώσετε τον ορισμό του αλγορίθμου. **Μονάδες 4**
- β. Να αναλύσετε τα κριτήρια της καθοριστικότητας και της περατότητας ενός αλγορίθμου. **Μονάδες 4**
- γ. Να αναφέρετε τους τρόπους αναπαράστασης ενός αλγορίθμου. **Μονάδες 4**

ΘΕΜΑ Β

B1. Δίνεται ο παρακάτω αλγόριθμος:



Αλγόριθμος ΘέμαΒ
 $z \leftarrow 1$
 $w \leftarrow 3$
 Όσο $z \leq 35$ επανάλαβε
 $z \leftarrow z+w$
 $w \leftarrow w+2$
 Γράψε w, z
 Τέλος_επανάληψης
 Τέλος ΘέμαΒ

Να γράψετε στο τετράδιό σας τις τιμές που θα εμφανιστούν κατά την εκτέλεση του αλγορίθμου με τη σειρά που θα εμφανιστούν.

Μονάδες 10

B2. Δίνεται το παρακάτω τμήμα αλγορίθμου:

Διάβασε X
 Αν $X \geq 0$ τότε
 $\pi \leftarrow 1$
 Για i από 1 μέχρι X
 $\pi \leftarrow \pi * i$
 Τέλος_επανάληψης
 Εμφάνισε π
 Αλλιώς
 Εμφάνισε “Δεν υπάρχει παραγοντικό”
 Τέλος_αν

Να κατασκευάσετε ισοδύναμο διάγραμμα ροής.

Μονάδες 10



ΘΕΜΑ Γ

Ένα εμπορικό κατάστημα έχει καταγράψει τις μηνιαίες εισπράξεις του για τα έτη 2009 και 2010.

Να γράψετε αλγόριθμο ο οποίος:

G1. Να διαβάσει τις μηνιαίες εισπράξεις για καθένα από τα δύο έτη και να τις καταχωρίζει σε αντίστοιχους μονοδιάστατους πίνακες.

Μονάδες 4

G2. Να υπολογίζει και να εμφανίζει τη μεγαλύτερη μηνιαία εισπράξη για κάθε έτος. Θεωρήστε ότι για κάθε έτος η τιμή αυτή είναι μοναδική.

Μονάδες 4

G3. Να εμφανίζει κατάλληλο μήνυμα στην περίπτωση που ο μήνας κατά τον οποίο σημειώθηκε η μεγαλύτερη μηνιαία εισπράξη ήταν ο ίδιος και για τα δύο έτη.

Μονάδες 4

G4. Να εμφανίζει τον μέσο όρο των μηνιαίων εισπράξεων για κάθε έτος.

Μονάδες 4

G5. Να υπολογίζει και να εμφανίζει το πλήθος των μηνών του έτους 2009 κατά τους οποίους η μηνιαία εισπράξη ήταν μεγαλύτερη από αυτή του αντίστοιχου μήνα του έτους 2010.

Μονάδες 4

ΘΕΜΑ Δ

Στην αρχή της ποδοσφαιρικής περιόδου οι 22 παίκτες μιας ομάδας, οι οποίοι αριθμούνται από 1 έως 22, ψηφίζουν για τον αρχηγό που θα τους εκπροσωπεί. Κάθε παίκτης μπορεί να ψηφίσει όσους συμπαίκτης του θέλει, ακόμα και τον εαυτό του. Τα αποτελέσματα της ψηφοφορίας καταχωρίζονται σε έναν πίνακα ΨΗΦΟΣ με 22 γραμμές και 22 στήλες, έτσι ώστε το στοιχείο ΨΗΦΟΣ[i,j] να έχει την τιμή 1, όταν ο παίκτης με αριθμό i έχει ψηφίσει τον παίκτη με αριθμό j, και τιμή 0 στην αντίθετη περίπτωση.

Να γράψετε αλγόριθμο ο οποίος:

Δ1. Να διαβάσει τα στοιχεία του πίνακα ΨΗΦΟΣ και να ελέγχει την ορθότητά τους με αποδεκτές τιμές 0 ή 1.

Μονάδες 4

ΑΡΧΗ 5ΗΣ ΣΕΛΙΔΑΣ - Α΄ ΕΣΠΕΡΙΝΩΝ

Δ2. Να εμφανίζει για κάθε παίκτη το πλήθος των ψήφων που έδωσε.

Μονάδες 4

Δ3. Να εμφανίζει για κάθε παίκτη το πλήθος των ψήφων που έλαβε.

Μονάδες 4

Δ4. Να εμφανίζει τον αριθμό του παίκτη που έλαβε τις περισσότερες ψήφους. Θεωρήστε ότι είναι μοναδικός.

Μονάδες 4

Δ5. Να εμφανίζει τον αριθμό κάθε παίκτη που δεν ψήφισε τον εαυτό του.

Μονάδες 4

ΟΔΗΓΙΕΣ (για τους εξεταζομένους)

1. Στο τετράδιο να γράψετε μόνο τα προκαταρκτικά (ημερομηνία, εξεταζόμενο μάθημα). **Να μην αντιγράψετε** τα θέματα στο τετράδιο.
2. Να γράψετε το ονοματεπώνυμό σας στο πάνω μέρος των φωτοαντιγράφων αμέσως μόλις σας παραδοθούν. **Δεν επιτρέπεται να γράψετε** καμιά άλλη σημείωση. Κατά την αποχώρησή σας να παραδώσετε μαζί με το τετράδιο και τα φωτοαντίγραφα.
3. Να απαντήσετε **στο τετράδιό σας** σε όλα τα θέματα.
4. Να γράψετε τις απαντήσεις σας **μόνο** με μπλε ή **μόνο** με μαύρο στυλό. Μπορείτε να χρησιμοποιήσετε μολύβι μόνο για σχέδια, διαγράμματα και πίνακες.
5. Να μη χρησιμοποιήσετε χαρτί μιλιμετρέ.
6. Κάθε απάντηση τεκμηριωμένη είναι αποδεκτή.
7. Διάρκεια εξέτασης: τρεις (3) ώρες μετά τη διανομή των φωτοαντιγράφων.
8. Χρόνος δυνατής αποχώρησης: 10.30 π.μ.

ΚΑΛΗ ΕΠΙΤΥΧΙΑ

ΤΕΛΟΣ ΜΗΝΥΜΑΤΟΣ

ΑΡΧΗ 1ΗΣ ΣΕΛΙΔΑΣ - Α΄ ΕΣΠΕΡΙΝΩΝ

**ΠΑΝΕΛΛΗΝΙΕΣ ΕΞΕΤΑΣΕΙΣ Α΄ ΤΑΞΗΣ
ΕΣΠΕΡΙΝΟΥ ΓΕΝΙΚΟΥ ΛΥΚΕΙΟΥ
ΠΑΡΑΣΚΕΥΗ 1 ΙΟΥΝΙΟΥ 2012
ΕΞΕΤΑΖΟΜΕΝΟ ΜΑΘΗΜΑ: ΑΝΑΠΤΥΞΗ ΕΦΑΡΜΟΓΩΝ ΣΕ
ΠΡΟΓΡΑΜΜΑΤΙΣΤΙΚΟ ΠΕΡΙΒΑΛΛΟΝ
ΤΕΧΝΟΛΟΓΙΚΗΣ ΚΑΤΕΥΘΥΝΣΗΣ
(ΚΥΚΛΟΥ ΠΛΗΡΟΦΟΡΙΚΗΣ ΚΑΙ ΥΠΗΡΕΣΙΩΝ)
ΣΥΝΟΛΟ ΣΕΛΙΔΩΝ: ΕΠΤΑ (7)**

ΘΕΜΑ Α



Α1. Να γράψετε στο τετράδιό σας τον αριθμό καθεμιάς από τις παρακάτω προτάσεις **1-5** και δίπλα τη λέξη **ΣΩΣΤΟ**, αν είναι σωστή, ή τη λέξη **ΛΑΘΟΣ**, αν είναι λανθασμένη.

1. Ένας πίνακας έχει σταθερό περιεχόμενο αλλά μεταβλητό μέγεθος.
2. Οι εντολές που βρίσκονται μέσα σε εντολή επανάληψης «Όσο ... επανάλαβε» εκτελούνται τουλάχιστον μία φορά.
3. Ο τύπος μιας μεταβλητής μπορεί να αλλάζει κατά την εκτέλεση ενός αλγορίθμου.
4. Οι δυναμικές δομές δεδομένων αποθηκεύονται πάντα σε συνεχόμενες θέσεις μνήμης.
5. Η μέθοδος επεξεργασίας «πρώτο μέσα πρώτο έξω» (FIFO) εφαρμόζεται στη δομή δεδομένων ΟΥΡΑ.

Μονάδες 5



Α2. Να μεταφέρετε στο τετράδιό σας τον παρακάτω πίνακα συμπληρώνοντάς τον με τον κατάλληλο τύπο και το περιεχόμενο της μεταβλητής.

Εντολή εκχώρησης	Τύπος μεταβλητής X	Περιεχόμενο μεταβλητής X
X ← 'ΑΛΗΘΗΣ'		
X ← 11.0 - 13.0		
X ← 7 > 4		
X ← ΨΕΥΔΗΣ		
X ← 4		

Μονάδες 10

ΑΡΧΗ 2ΗΣ ΣΕΛΙΔΑΣ - Α΄ ΕΣΠΕΡΙΝΩΝ

A3. Δίνεται ο πίνακας A[10], στον οποίο επιθυμούμε να αποθηκεύσουμε όλους τους ακεραίους αριθμούς από το 10 μέχρι το 1 με φθίνουσα σειρά. Στον πίνακα έχουν εισαχθεί ορισμένοι αριθμοί, οι οποίοι εμφανίζονται στο παρακάτω σχήμα:

1	2	3	4	5	6	7	8	9	10
10	9				5	4			1

α. Να συμπληρώσετε τις επόμενες εντολές εκχώρησης, ώστε τα κενά κελιά του πίνακα να αποκτήσουν τις επιθυμητές τιμές.

A[3] ← 3 + A[...]

A[9] ← A[...] - 2

A[8] ← A[...] - 5

A[4] ← 5 + A[...]

A[5] ← (A[...] + A[7]) div 2

(μονάδες 5)

β. Να συμπληρώσετε το παρακάτω τμήμα αλγορίθμου, το οποίο αντιμετωπίζει τις τιμές των κελιών του πίνακα A, έτσι ώστε η τελική διάταξη των αριθμών να είναι από 1 μέχρι 10.

Για i από 1 μέχρι 5

αντιμετάθεσε A[...], A[...]

Τέλος_επανάληψης

(μονάδες 4)

Μονάδες 9

A4. Δίνεται το παρακάτω τμήμα αλγορίθμου το οποίο εμφανίζει τα τετράγωνα των περιττών αριθμών από το 99 μέχρι το 1 με φθίνουσα σειρά.

Για i από 99 μέχρι 1 με_βήμα -2

x ← i²

εμφάνισε x

Τέλος_επανάληψης

ΤΕΛΟΣ 2ΗΣ ΑΠΟ 7 ΣΕΛΙΔΕΣ

ΑΡΧΗ 3ΗΣ ΣΕΛΙΔΑΣ - Α΄ ΕΣΠΕΡΙΝΩΝ

α. Να ξαναγράψετε στο τετράδιό σας το παραπάνω τμήμα αλγορίθμου με αποκλειστική χρήση της δομής επανάληψης «Όσο ... επανάλαβε».

(μονάδες 5)

β. Να ξαναγράψετε στο τετράδιό σας το παραπάνω τμήμα αλγορίθμου με αποκλειστική χρήση της δομής επανάληψης «Αρχή_επανάληψης ... Μέχρις_ότου».

(μονάδες 5)

Μονάδες 10

A5. Πώς ονομάζονται οι δύο κύριες λειτουργίες που εκτελούνται σε μία ΣΤΟΙΒΑ δεδομένων; Τι λειτουργία επιτελούν και τι πρέπει να ελέγχεται πριν την εκτέλεσή τους;

Μονάδες 6

ΘΕΜΑ Β

B1. Δίνεται το παρακάτω τμήμα αλγορίθμου:

K ← 1

X ← -1

i ← 0

Όσο X < 7 επανάλαβε

i ← i + 1

K ← K * X

Εμφάνισε K, X

Αν i mod 2 = 0 τότε

X ← X + 1

Αλλιώς

X ← X + 2

Τέλος_Αν

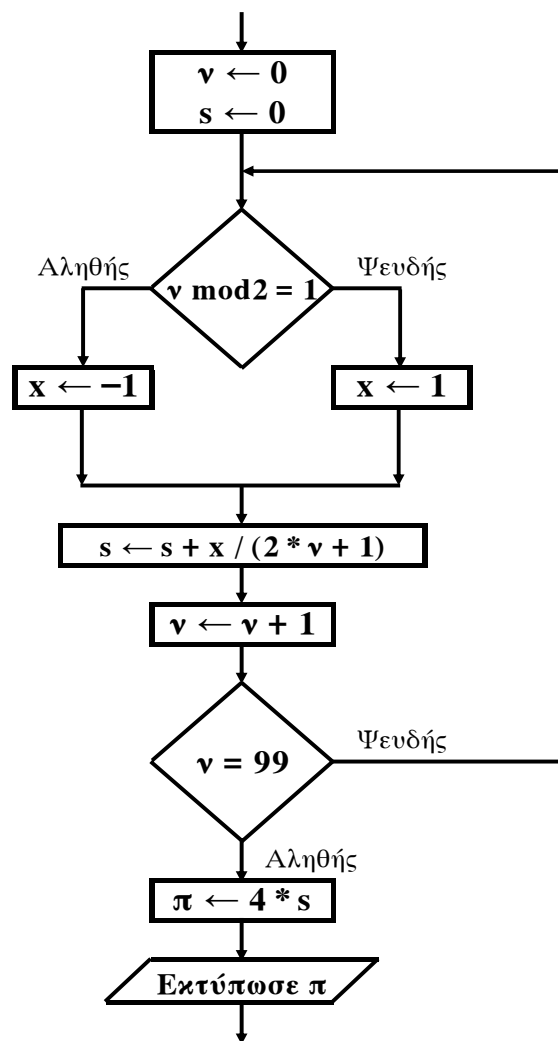
Τέλος_επανάληψης

Να γράψετε στο τετράδιό σας τις τιμές που θα εμφανίσει το τμήμα αλγορίθμου κατά την εκτέλεσή του με τη σειρά που θα εμφανιστούν.

Μονάδες 10

ΤΕΛΟΣ 3ΗΣ ΑΠΟ 7 ΣΕΛΙΔΕΣ

B2. Δίνεται το παρακάτω τμήμα αλγορίθμου σε μορφή διαγράμματος ροής:



Να κατασκευάσετε ισοδύναμο τμήμα αλγορίθμου σε ψευδογλώσσα.

Μονάδες 10



ΘΕΜΑ Γ

Δημόσιος οργανισμός διαθέτει ένα συγκεκριμένο ποσό για την επιδότηση επενδυτικών έργων. Η επιδότηση γίνεται κατόπιν αξιολόγησης και αφορά δύο συγκεκριμένες κατηγορίες έργων με βάση τον προϋπολογισμό τους. Οι κατηγορίες και τα αντίστοιχα ποσοστά επιδότησης επί του προϋπολογισμού φαίνονται στον παρακάτω πίνακα:

Κατηγορία έργου	Προϋπολογισμός έργου σε Ευρώ	Ποσοστό Επιδότησης
Μικρή	200.000 - 299.999	60%
Μεγάλη	300.000 - 399.999	70%

Η εκταμίευση των επιδοτήσεων των έργων γίνεται με βάση τη χρονική σειρά υποβολής τους. Μετά από κάθε εκταμίευση μειώνεται το ποσό που διαθέτει ο οργανισμός. Να αναπτύξετε αλγόριθμο ο οποίος:

G1. Να διαβάσει το ποσό που διαθέτει ο οργανισμός για το πρόγραμμα επενδύσεων συνολικά, ελέγχοντας ότι το ποσό είναι μεγαλύτερο από 5.000.000 Ευρώ.

Μονάδες 2

G2. Να διαβάσει το όνομα κάθε έργου. Η σειρά ανάγνωσης είναι η σειρά υποβολής των έργων. Η επαναληπτική διαδικασία να τερματίζεται, όταν αντί για όνομα έργου δοθεί η λέξη «ΤΕΛΟΣ», ή όταν το διαθέσιμο ποσό έχει μειωθεί τόσο, ώστε να μην είναι δυνατή η επιδότηση ούτε ενός έργου μικρής κατηγορίας. Για κάθε έργο, αφού διαβάσει το όνομά του, να διαβάσει και τον προϋπολογισμό του (Δεν απαιτείται έλεγχος εγκυρότητας του προϋπολογισμού).

Μονάδες 6

G3. Για κάθε έργο να ελέγχει αν το διαθέσιμο ποσό καλύπτει την επιδότηση, και μόνον τότε να γίνεται η εκταμίευση του ποσού. Στη συνέχεια, να εμφανίζει το όνομα του έργου και το ποσό της επιδότησης που δόθηκε.

Μονάδες 6

Γ4. Να εμφανίζει το πλήθος των έργων που επιδοτήθηκαν από κάθε κατηγορία καθώς και τη συνολική επιδότηση που δόθηκε σε κάθε κατηγορία.

Μονάδες 4

Γ5. Μετά το τέλος της επαναληπτικής διαδικασίας να εμφανίζει το ποσό που δεν έχει διατεθεί, μόνο αν είναι μεγαλύτερο του μηδενός.

Μονάδες 2

ΘΕΜΑ Δ

Μια εταιρεία ασχολείται με εγκαταστάσεις φωτοβολταϊκών συστημάτων, με τα οποία οι πελάτες της έχουν τη δυνατότητα αφενός να παράγουν ηλεκτρική ενέργεια για να καλύπτουν τις ανάγκες της οικίας τους, αφετέρου να πωλούν την πλεονάζουσα ενέργεια προς 0,55€/kWh, εξασφαλίζοντας επιπλέον έσοδα. Η εταιρεία αποφάσισε να ερευνήσει τις εγκαταστάσεις που πραγματοποίησε την προηγούμενη χρονιά σε δέκα (10) πελάτες.

Να αναπτύξετε αλγόριθμο ο οποίος:

Δ1. Να διαβάζει τα ονόματα των πελατών και να τα αποθηκεύει σε πίνακα ΟΝΟΜΑ[10].

Μονάδα 2

Δ2. Να διαβάζει το ποσό της ηλεκτρικής ενέργειας σε kWh που παρήγαγαν τα φωτοβολταϊκά συστήματα κάθε πελάτη, καθώς και το ποσό της ηλεκτρικής ενέργειας που κατανάλωσε κάθε πελάτης ανά μήνα του έτους, και να τα αποθηκεύει στους πίνακες Π[10,12] για την παραγωγή και Κ[10,12] για την κατανάλωση αντίστοιχα. Θεωρήστε ότι δεν απαιτείται έλεγχος εγκυρότητας για τα δεδομένα εισόδου.

Μονάδες 6

Δ3. Με βάση τα στοιχεία του δισδιάστατου πίνακα Π[10,12], να αποθηκεύει σε μονοδιάστατο πίνακα ΕΤΗΣΙΑ_Π[10] τις ετήσιες αποδόσεις σε kWh για κάθε πελάτη. Με βάση τα στοιχεία του δισδιάστατου πίνακα Κ[10,12], να αποθηκεύει σε μονοδιάστατο πίνακα ΕΤΗΣΙΑ_Κ[10] τις ετήσιες καταναλώσεις σε kWh που αντιστοιχούν σε κάθε πελάτη.

Μονάδες 4

Δ4. Σε μονοδιάστατο πίνακα ΕΣΟΔΑ[10] να αποθηκεύει τα ετήσια έσοδα σε Ευρώ, αν η ετήσια παραγόμενη ηλεκτρική ενέργεια είναι μεγαλύτερη από την ενέργεια που έχει καταναλωθεί για κάθε πελάτη, αλλιώς να αποθηκεύει την τιμή 0.

Μονάδες 4

Δ5. Να εμφανίζει τα ετήσια έσοδα σε Ευρώ κατά φθίνουσα σειρά.

Μονάδες 4

ΟΔΗΓΙΕΣ (για τους εξεταζομένους)

1. Στο τετράδιο να γράψετε μόνο τα προκαταρκτικά (ημερομηνία, εξεταζόμενο μάθημα). **Να μην αντιγράψετε** τα θέματα στο τετράδιο.
2. Να γράψετε το ονοματεπώνυμό σας στο πάνω μέρος των φωτοαντιγράφων αμέσως μόλις σας παραδοθούν. **Δεν επιτρέπεται να γράψετε** καμιά άλλη σημείωση. Κατά την αποχώρησή σας να παραδώσετε μαζί με το τετράδιο και τα φωτοαντίγραφα.
3. Να απαντήσετε **στο τετράδιό σας** σε όλα τα θέματα.
4. Να γράψετε τις απαντήσεις σας **μόνο** με μπλε ή **μόνο** με μαύρο στυλό. Μπορείτε να χρησιμοποιήσετε μολύβι μόνο για σχέδια, διαγράμματα και πίνακες.
5. Να μη χρησιμοποιήσετε χαρτί μιλιμετρέ.
6. Κάθε απάντηση τεκμηριωμένη είναι αποδεκτή.
7. Διάρκεια εξέτασης: τρεις (3) ώρες μετά τη διανομή των φωτοαντιγράφων.
8. Χρόνος δυνατής αποχώρησης: 10.30 π.μ.

ΚΑΛΗ ΕΠΙΤΥΧΙΑ

ΤΕΛΟΣ ΜΗΝΥΜΑΤΟΣ

**ΠΑΝΕΛΛΑΔΙΚΕΣ ΕΞΕΤΑΣΕΙΣ
Δ΄ ΤΑΞΗΣ ΕΣΠΕΡΙΝΟΥ ΓΕΝΙΚΟΥ ΛΥΚΕΙΟΥ
ΤΕΤΑΡΤΗ 29 ΜΑΪΟΥ 2013
ΕΞΕΤΑΖΟΜΕΝΟ ΜΑΘΗΜΑ:
ΑΝΑΠΤΥΞΗ ΕΦΑΡΜΟΓΩΝ ΣΕ ΠΡΟΓΡΑΜΜΑΤΙΣΤΙΚΟ ΠΕΡΙΒΑΛΛΟΝ
ΤΕΧΝΟΛΟΓΙΚΗΣ ΚΑΤΕΥΘΥΝΣΗΣ
(ΚΥΚΛΟΥ ΠΛΗΡΟΦΟΡΙΚΗΣ ΚΑΙ ΥΠΗΡΕΣΙΩΝ)
ΣΥΝΟΛΟ ΣΕΛΙΔΩΝ: ΤΕΣΣΕΡΙΣ (4)**

ΘΕΜΑ Α

A1. Να γράψετε στο τετράδιό σας τον αριθμό καθεμιάς από τις παρακάτω προτάσεις 1-6 και δίπλα τη λέξη **ΣΩΣΤΟ**, αν η πρόταση είναι σωστή, ή τη λέξη **ΛΑΘΟΣ**, αν η πρόταση είναι λανθασμένη.

1. Η τιμή μιας μεταβλητής και ο τύπος της μπορούν να αλλάζουν κατά την εκτέλεση ενός προγράμματος.
2. Όταν υπάρχουν δυο βρόχοι, ο ένας εμφωλευμένος μέσα στον άλλο, αυτός που ξεκινάει τελευταίος πρέπει να ολοκληρώνεται πρώτος.
3. Μια διαφορά της εντολής **Όσο** σε σχέση με την εντολή **Μέχρις_ότου** οφείλεται στη θέση της λογικής συνθήκης στη ροή εκτέλεσης των εντολών.
4. Αν $A=2$, $B=3$, $\Gamma=4$ και $\Delta=ΑΛΗΘΗΣ$, τότε η τιμή της έκφρασης $(B*\Gamma>A+B)$ **ΚΑΙ (ΟΧΙ(Δ))** είναι ΑΛΗΘΗΣ.
5. Κατά την εκτέλεση της εντολής ΔΙΑΒΑΣΕ, το πρόγραμμα διακόπτει την εκτέλεσή του και περιμένει την εισαγωγή τιμών από το πληκτρολόγιο.
6. Οι πίνακες δεν μπορούν να έχουν περισσότερες από δύο διαστάσεις.

Μονάδες 6

A2. Στο παρακάτω τμήμα αλγορίθμου να αναφέρετε ποια αλγοριθμικά κριτήρια παραβιάζονται (μονάδες 3).

Να αιτιολογήσετε την απάντησή σας (μονάδες 5).

1. $N \leftarrow 0$
2. $M \leftarrow 4$
3. **Όσο** $M \leq 11$ **Επανάλαβε**
4. **Αν** $M \bmod 10 = 0$ **τότε**
5. $M \leftarrow M - 4$
6. **Τέλος_αν**
7. $M \leftarrow M + 2$
8. $N \leftarrow N + 2 * N / (M - 10)$
9. **Τέλος_επανάληψης**
10. $N \leftarrow (N - M) / N$
11. **Εμφάνισε** M
12. **Εμφάνισε** N

Μονάδες 8

A3.

- α. Να αναφέρετε ονομαστικά τους λόγους για τους οποίους αναθέτουμε την επίλυση ενός προβλήματος σε υπολογιστή (μονάδες 4).
- β. Να γράψετε τις περιπτώσεις για τις οποίες δικαιολογείται η χρήση της σειριακής μεθόδου αναζήτησης σε έναν πίνακα (μονάδες 3).
- γ. Να αναφέρετε ονομαστικά τέσσερις βασικές λειτουργίες που γίνονται επί των δομών δεδομένων (μονάδες 4).

Μονάδες 11

A4.

- α. Δίνεται τετραγωνικός πίνακας $\Pi[100,100]$ και το παρακάτω τμήμα αλγορίθμου σε ψευδογλώσσα:

```

Για i από 1 μέχρι 100
  Για j από 1 μέχρι 100
    Αν i=j τότε
      Διάβασε  $\Pi[i,j]$ 
    Τέλος_αν
  Τέλος_επανάληψης
Τέλος_επανάληψης
    
```

Να ξαναγράψετε στο τετράδιό σας το παραπάνω τμήμα αλγορίθμου χωρίς τη χρήση της δομής επιλογής, έτσι ώστε να επιτελεί την ίδια λειτουργία (μονάδες 4).

- β. Να μεταφέρετε στο τετράδιό σας το παρακάτω τμήμα αλγορίθμου, έχοντας συμπληρώσει τις γραμμές εντολών 2, και 3 ώστε να εμφανίζει πάντα το μεγαλύτερο από τους δυο αριθμούς που διαβάστηκαν:

1. **Διάβασε** A, B
2. **Αν** $A \dots B$ **τότε**
3.
4. **Τέλος_αν**
5. **Εμφάνισε** A

(μονάδες 4)

Μονάδες 8

A5. Να γράψετε στο τετράδιό σας τους αριθμούς της στήλης A και δίπλα το γράμμα της στήλης B που αντιστοιχεί σωστά.

Στήλη A		Στήλη B	
1.	χαρακτήρες	α.	λογική τιμή
2.	ελεύθερο κείμενο	β.	ουρά
3.	ώθηση	γ.	κριτήριο αλγορίθμου
4.	αληθής	δ.	επανάληψη
5.	FIFO	ε.	τύπος μεταβλητής
6.	αποτελεσματικότητα	στ.	στοίβα
7.	βρόχος	ζ.	τρόπος αναπαράστασης αλγορίθμου

Μονάδες 7

ΘΕΜΑ Β

B1. Δίνεται ο παρακάτω αλγόριθμος:

```

Αλγόριθμος Παράγοντες
Διάβασε α
k ← 2
Όσο α > 1 επανάλαβε
  Αν α mod k = 0 τότε
    Εμφάνισε k
    α ← α div k
  Αλλιώς
    k ← k + 1
  Τέλος_αν
Τέλος_επανάληψης
Τέλος Παράγοντες
    
```

Να σχεδιάσετε στο τετράδιό σας το αντίστοιχο διάγραμμα ροής.

Μονάδες 10

B2. Έστω μονοδιάστατος πίνακας Π[100], του οποίου τα στοιχεία περιέχουν τις λογικές τιμές ΑΛΗΘΗΣ και ΨΕΥΔΗΣ. Να γραφεί τμήμα αλγορίθμου που χωρίς τη χρήση «αλγορίθμων ταξινόμησης» να τοποθετεί στις πρώτες θέσεις του πίνακα την τιμή ΑΛΗΘΗΣ και στις τελευταίες την τιμή ΨΕΥΔΗΣ.



Μονάδες 10

ΘΕΜΑ Γ

Ανατέθηκε σε μια περιβαλλοντική ομάδα να φτιάξει έναν χάρτη επικινδυνότητας πυρκαγιών για την οροσειρά του Ταυγέτου. Ο χάρτης αυτός θα δείχνει σε ποιες περιοχές υπάρχει μεγάλη πιθανότητα πυρκαγιάς, σε ποιες μέτρια και σε ποιες χαμηλή. Για να μπορέσουν να κατασκευάσουν το χάρτη, θα πρέπει σε κάθε περιοχή να μετρήσουν τη μέση ταχύτητα του αέρα και την υγρασία. Για να χαρακτηριστεί μια περιοχή ως υψηλής επικινδυνότητας θα πρέπει η μέση ταχύτητα του αέρα να ξεπερνά τα 10 m/s και η υγρασία να είναι σε «**χαμηλά επίπεδα**». Για να χαρακτηριστεί ως μέτριας επικινδυνότητας θα πρέπει η μέση ταχύτητα του αέρα να ξεπερνά τα 10 m/s και η υγρασία να είναι σε «**υψηλά επίπεδα**». Τέλος, για να χαρακτηριστεί ως χαμηλής επικινδυνότητας θα πρέπει η μέση ταχύτητα του αέρα να είναι μικρότερη ή ίση των 10 m/s ανεξάρτητα από τα επίπεδα της υγρασίας.

Να αναπτύξετε αλγόριθμο, ο οποίος:

G1. Να διαβάσει για 10 περιοχές την υγρασία και τη μέση ταχύτητα του ανέμου.

Μονάδες 4

G2. Για κάθε περιοχή να εμφανίζει τα μηνύματα «**Υψηλή επικινδυνότητα**», «**Μεσαία επικινδυνότητα**» και «**Χαμηλή επικινδυνότητα**» ανάλογα με τους συνδυασμούς των συνδυασμών μέσης ταχύτητας και υγρασίας.

Μονάδες 10

G3. Να εμφανίζει το πλήθος των περιοχών με υψηλή επικινδυνότητα.

Μονάδες 6

ΤΕΛΟΣ 3ΗΣ ΑΠΟ 4 ΣΕΛΙΔΕΣ

ΘΕΜΑ Δ

Μια εικόνα 128 x 128 εικονοστοιχείων (pixels) αποθηκεύεται σε ένα δισδιάστατο πίνακα A[128,128]. Ένα pixel με μαύρο χρώμα αντιστοιχεί στην τιμή 0, ενώ ένα pixel με άσπρο χρώμα αντιστοιχεί στην τιμή 255. Συνεπώς, ο πίνακας χρησιμεύει στην αποθήκευση των 256 αποχρώσεων του γκρι, δηλαδή στα κελιά αποθηκεύει τους ακέραιους αριθμούς από 0 έως 255. Ορίζουμε ως «αρνητική» της αρχικής εικόνας, εκείνη που έχει τιμή 0 (μαύρο χρώμα) εκεί όπου η αρχική έχει τιμή 255 (άσπρο χρώμα) και έχει τιμή 1 εκεί όπου η αρχική εικόνα έχει τιμή 254, κ.ο.κ. Επίσης, μια συνήθης διαδικασία επεξεργασίας εικόνων είναι η λεύκανση, κατά την οποία η τιμή ενός χρώματος πολλαπλασιάζεται με συντελεστή μεγαλύτερο ή ίσο του 1.

Να αναπτύξετε αλγόριθμο, ο οποίος:

Δ1. Να καταχωρίζει στο δισδιάστατο πίνακα A[128,128] την αρχική εικόνα.

Μονάδες 2

Δ2. Να υπολογίζει το «αρνητικό» της εικόνας σε νέο πίνακα B[128,128] και να τον εμφανίζει στην οθόνη.

Μονάδες 5

Δ3. Να εκτελεί λεύκανση της αρχικής εικόνας με συντελεστή 1,3 σε πίνακα Γ[128,128] και να τον εμφανίζει στην οθόνη. Σημειώνεται ότι, εάν η νέα τιμή είναι μεγαλύτερη του 255, τότε ως νέα τιμή εκχωρείται το 255. Στην περίπτωση, που η προκύπτουσα τιμή δεν είναι ακέραια, πραγματοποιείται αποκοπή των δεκαδικών ψηφίων.

Μονάδες 6

Δ4. Να εμφανίζει στην οθόνη τις συντεταγμένες i, j των θέσεων (κελιών του πίνακα A[128,128]), όπου η χρωματική τιμή (ταυτίζεται με την αριθμητική τιμή) είναι μέγιστη.

Μονάδες 7

ΟΔΗΓΙΕΣ (για τους εξεταζομένους)

1. Στο εξώφυλλο του τετραδίου να γράψετε το εξεταζόμενο μάθημα. Στο εσώφυλλο πάνω-πάνω να συμπληρώσετε τα ατομικά στοιχεία μαθητή. Στην αρχή των απαντήσεών σας να γράψετε πάνω-πάνω την ημερομηνία και το εξεταζόμενο μάθημα. Να μην αντιγράψετε τα θέματα στο τετράδιο και να μη γράψετε πουθενά στις απαντήσεις σας το όνομά σας.
2. Να γράψετε το ονοματεπώνυμό σας στο πάνω μέρος των φωτοαντιγράφων αμέσως μόλις σας παραδοθούν. Τυχόν σημειώσεις σας πάνω στα θέματα δεν θα βαθμολογηθούν σε καμία περίπτωση. Κατά την αποχώρησή σας να παραδώσετε μαζί με το τετράδιο και τα φωτοαντίγραφα.
3. Να απαντήσετε στο τετράδιό σας σε όλα τα θέματα **μόνο** με μπλε ή **μόνο** με μαύρο στυλό με μελάνι που δεν σβήνει.
4. Κάθε απάντηση επιστημονικά τεκμηριωμένη είναι αποδεκτή.
5. Διάρκεια εξέτασης: τρεις (3) ώρες μετά τη διανομή των φωτοαντιγράφων.
6. Χρόνος δυνατής αποχώρησης: 10.30 π.μ.

ΚΑΛΗ ΕΠΙΤΥΧΙΑ

ΤΕΛΟΣ ΜΗΝΥΜΑΤΟΣ

ΤΕΛΟΣ 4ΗΣ ΑΠΟ 4 ΣΕΛΙΔΕΣ

**ΠΑΝΕΛΛΑΔΙΚΕΣ ΕΞΕΤΑΣΕΙΣ
Δ΄ ΤΑΞΗΣ ΕΣΠΕΡΙΝΟΥ ΓΕΝΙΚΟΥ ΛΥΚΕΙΟΥ
ΠΑΡΑΣΚΕΥΗ 6 ΙΟΥΝΙΟΥ 2014
ΕΞΕΤΑΖΟΜΕΝΟ ΜΑΘΗΜΑ:
ΑΝΑΠΤΥΞΗ ΕΦΑΡΜΟΓΩΝ ΣΕ ΠΡΟΓΡΑΜΜΑΤΙΣΤΙΚΟ ΠΕΡΙΒΑΛΛΟΝ
ΤΕΧΝΟΛΟΓΙΚΗΣ ΚΑΤΕΥΘΥΝΣΗΣ
(ΚΥΚΛΟΥ ΠΛΗΡΟΦΟΡΙΚΗΣ ΚΑΙ ΥΠΗΡΕΣΙΩΝ)
ΣΥΝΟΛΟ ΣΕΛΙΔΩΝ: ΤΕΣΣΕΡΙΣ (4)**

ΘΕΜΑ Α

- A1.** Να γράψετε στο τετράδιό σας τον αριθμό καθεμιάς από τις παρακάτω προτάσεις 1-5 και, δίπλα, τη λέξη **ΣΩΣΤΟ**, αν η πρόταση είναι σωστή, ή τη λέξη **ΛΑΘΟΣ**, αν η πρόταση είναι λανθασμένη.
1. Οι εκφράσεις διαμορφώνονται από τους τελεστούς και τους τελεστές. (μονάδες 2)
 2. Σκοπός της ταξινόμησης είναι να διευκολυνθεί στη συνέχεια η αναζήτηση των στοιχείων του ταξινομημένου πίνακα. (μονάδες 2)
 3. Με κριτήριο το είδος της επίλυσης που επιδέχονται, τα προβλήματα διακρίνονται σε επιλύσιμα, ανοικτά, άλυτα. (μονάδες 2)
 4. Οι λογικές τιμές είναι οι εξής: ΟΧΙ, ΚΑΙ, Ή. (μονάδες 2)
 5. Η ΓΛΩΣΣΑ επιτρέπει την αντιστοίχιση σταθερών τιμών με ονόματα. (μονάδες 2)

Μονάδες 10

- A2.** Να γράψετε στο τετράδιό σας:

- α. Ένα συγκριτικό τελεστή. (μονάδα 1)
- β. Ένα λογικό τελεστή. (μονάδα 1)
- γ. Μία λογική σταθερά. (μονάδα 1)
- δ. Μία απλή λογική έκφραση. (μονάδα 1)
- ε. Μία σύνθετη λογική έκφραση. (μονάδα 1)

Μονάδες 5

- A3.** Δίνονται οι τιμές των μεταβλητών $X=8$ και $\Psi=4$ και η παρακάτω έκφραση:
(ΟΧΙ ($9 \bmod 5 = 20 - 4 * 2^2$)) Ή ($X > \Psi$ ΚΑΙ " X " > " Ψ "))

- Να υπολογίσετε την τιμή της έκφρασης αναλυτικά, ως εξής:
- α. Να αντικαταστήσετε τις μεταβλητές με τις τιμές τους. (μονάδα 1)
 - β. Να εκτελέσετε τις αριθμητικές πράξεις. (μονάδα 1)
 - γ. Να αντικαταστήσετε τις συγκρίσεις με την τιμή ΑΛΗΘΗΣ, αν η σύγκριση είναι αληθής, ή με την τιμή ΨΕΥΔΗΣ, αν η σύγκριση είναι ψευδής. (μονάδα 1)
 - δ. Να εκτελέσετε τις λογικές πράξεις, ώστε να υπολογίσετε την τελική τιμή της έκφρασης. (μονάδες 2)

Μονάδες 5

- A4.**
- α. Να γράψετε τους κανόνες που πρέπει να ακολουθούνται στη χρήση των εμφωλευμένων βρόχων με εντολές ΓΙΑ. (μονάδες 6)
 - β. Ποια είναι τα τέσσερα κυριότερα χρησιμοποιούμενα γεωμετρικά σχήματα (σύμβολα) σε ένα διάγραμμα ροής; (μονάδες 4)
 - γ. Να αναφέρετε τι δηλώνουν δύο οποιαδήποτε από τα παραπάνω γεωμετρικά σχήματα (σύμβολα). (μονάδες 2)

Μονάδες 12

- A5.** Δίνεται το παρακάτω ημιτελές τμήμα αλγορίθμου:

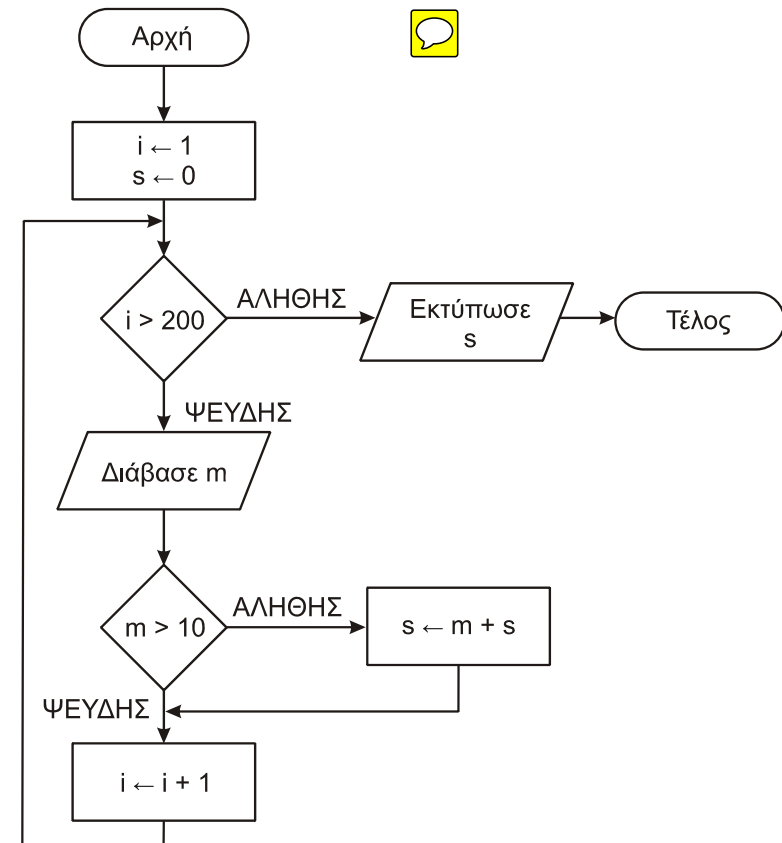
A ← ...
B ← ...
 Αρχή_επανάληψης
 B ← ...
 A ← ...
 Μέχρις_ότου **A > 200**
 Εμφάνισε **B**

Να ξαναγράψετε στο τετράδιό σας το παραπάνω τμήμα αλγορίθμου με τα κενά συμπληρωμένα, έτσι ώστε να υπολογίζει και να εμφανίζει το άθροισμα των περιττών ακεραίων από το 100 έως το 200.

Μονάδες 8

ΘΕΜΑ Β

- B1.** Δίνεται ο παρακάτω αλγόριθμος:



Να κωδικοποιήσετε τον παραπάνω αλγόριθμο σε ψευδογλώσσα.

Μονάδες 10

B2. Δίνεται το παρακάτω τμήμα αλγορίθμου:



$z \leftarrow 3$

Για i από 7 μέχρι 15

$z \leftarrow z * i$

Εμφάνισε z

Τέλος_επανάληψης

Να ξαναγράψετε στο τετράδιό σας το παραπάνω τμήμα αλγορίθμου χρησιμοποιώντας αποκλειστικά την εντολή επανάληψης **Όσο...επανάλαβε**.

Μονάδες 10

ΘΕΜΑ Γ

Ένας πελάτης αγοράζει προϊόντα από ένα κατάστημα. Να αναπτύξετε αλγόριθμο ο οποίος:



G1. Για κάθε προϊόν που αγοράζει ο πελάτης, να διαβάζει τον κωδικό του, τον αριθμό τεμαχίων που αγοράστηκαν και την τιμή τεμαχίου. Η διαδικασία ανάγνωσης να σταματά, όταν δοθεί ως κωδικός ο αριθμός 0.

Μονάδες 5

G2. Να υπολογίζει και να εμφανίζει τον τελικό λογαριασμό, αν για τα πρώτα 100 ευρώ του λογαριασμού δεν γίνεται έκπτωση, για τα επόμενα 200 ευρώ του λογαριασμού γίνεται έκπτωση 7% και για τα υπόλοιπα γίνεται έκπτωση 10%.

Μονάδες 8

G3. Να υπολογίζει και να εμφανίζει τον συνολικό αριθμό τεμαχίων με τιμή τεμαχίου μεγαλύτερη από 30 ευρώ.

Μονάδες 7

ΘΕΜΑ Δ

Μια εταιρεία Πληροφορικής καταγράφει, για δέκα ιστοτόπους, τον αριθμό των επισκέψεων που δέχεται ο καθένας, κάθε μέρα, για τέσσερις εβδομάδες.

Να αναπτύξετε αλγόριθμο, ο οποίος:

Δ1. Για καθένα από τους ιστοτόπους να διαβάζει το όνομά του και το πλήθος των επισκέψεων που δέχθηκε ο ιστοτόπος για κάθε μια ημέρα. Δεν απαιτείται έλεγχος εγκυρότητας τιμών.

Μονάδες 2

Δ2. Να εμφανίζει το όνομα κάθε ιστοτόπου και τον συνολικό αριθμό των επισκέψεων που δέχθηκε αυτός στο διάστημα των τεσσάρων εβδομάδων.

Μονάδες 3

Δ3. Να εμφανίζει πόσοι ιστοτόποι είχαν, στο διάστημα των τεσσάρων εβδομάδων, σύνολο επισκέψεων μεγαλύτερο από 1000.

Μονάδες 6

Δ4. Να εμφανίζει τα ονόματα των ιστοτόπων, ταξινομημένα σε φθίνουσα σειρά, με βάση το σύνολο των επισκέψεων στο διάστημα των τεσσάρων εβδομάδων.

Μονάδες 9

ΟΔΗΓΙΕΣ (για τους εξεταζομένους)


1. Στο εξώφυλλο του τετραδίου να γράψετε το εξεταζόμενο μάθημα. Στο εσώφυλλο πάνω-πάνω να συμπληρώσετε τα Ατομικά στοιχεία μαθητή. Στην αρχή των απαντήσεών σας να γράψετε πάνω-πάνω την ημερομηνία και το εξεταζόμενο μάθημα. **Να μην αντιγράψετε** τα θέματα στο τετράδιο και **να μη γράψετε** πουθενά στις απαντήσεις σας το όνομά σας.
2. Να γράψετε το ονοματεπώνυμό σας στο πάνω μέρος των φωτοαντιγράφων αμέσως μόλις σας παραδοθούν. **Τυχόν σημειώσεις σας πάνω στα θέματα δεν θα βαθμολογηθούν σε καμία περίπτωση.** Κατά την αποχώρησή σας να παραδώσετε μαζί με το τετράδιο και τα φωτοαντίγραφα.
3. Να απαντήσετε **στο τετράδιό σας** σε όλα τα θέματα **μόνο** με μπλε ή **μόνο** με μαύρο στυλό με μελάνι που δεν σβήνει. Μολύβι επιτρέπεται, **μόνο** αν το ζητάει η εκφώνηση, και **μόνο** για πίνακες, διαγράμματα κλπ.
4. Κάθε απάντηση επιστημονικά τεκμηριωμένη είναι αποδεκτή.
5. Διάρκεια εξέτασης: τρεις (3) ώρες μετά τη διανομή των φωτοαντιγράφων.
6. Ώρα δυνατής αποχώρησης: 10.30 π.μ.

ΣΑΣ ΕΥΧΟΜΑΣΤΕ ΚΑΛΗ ΕΠΙΤΥΧΙΑ

ΤΕΛΟΣ ΜΗΝΥΜΑΤΟΣ


ΠΑΝΕΛΛΑΔΙΚΕΣ ΕΞΕΤΑΣΕΙΣ
Δ' ΤΑΞΗΣ ΕΣΠΕΡΙΝΟΥ ΓΕΝΙΚΟΥ ΛΥΚΕΙΟΥ
ΤΕΤΑΡΤΗ 27 ΜΑΪΟΥ 2015
ΕΞΕΤΑΖΟΜΕΝΟ ΜΑΘΗΜΑ:
ΑΝΑΠΤΥΞΗ ΕΦΑΡΜΟΓΩΝ ΣΕ ΠΡΟΓΡΑΜΜΑΤΙΣΤΙΚΟ ΠΕΡΙΒΑΛΛΟΝ
ΤΕΧΝΟΛΟΓΙΚΗΣ ΚΑΤΕΥΘΥΝΣΗΣ
(ΚΥΚΛΟΥ ΠΛΗΡΟΦΟΡΙΚΗΣ ΚΑΙ ΥΠΗΡΕΣΙΩΝ)
ΣΥΝΟΛΟ ΣΕΛΙΔΩΝ: ΠΕΝΤΕ (5)

ΘΕΜΑ Α


A1. Να γράψετε στο τετράδιό σας τον αριθμό καθεμίας από τις παρακάτω προτάσεις 1-5 και, δίπλα, τη λέξη **ΣΩΣΤΟ**, αν η πρόταση είναι σωστή, ή τη λέξη **ΛΑΘΟΣ**, αν η πρόταση είναι λανθασμένη. 

1. Η επαναληπτικότητα των διαδικασιών είναι ένας από τους λόγους ανάθεσης της επίλυσης ενός προβλήματος σε υπολογιστή. (μονάδες 2)
2. Ο βρόχος Για κ από 5 μέχρι 5 εκτελείται μία φορά. (μονάδες 2)
3. Δεν υπάρχουν δομές δεδομένων δευτερεύουσας μνήμης. (μονάδες 2)
4. Υπάρχει εξάρτηση μεταξύ της δομής δεδομένων και του αλγορίθμου που επεξεργάζεται τη δομή. (μονάδες 2)
5. Κάθε πρόγραμμα γραμμένο στη ΓΛΩΣΣΑ περιλαμβάνει οπωσδήποτε τμήμα δήλωσης σταθερών. (μονάδες 2)

Μονάδες 10

A2. α. Να αναφέρετε ονομαστικά τις κατηγορίες στις οποίες διακρίνονται τα προβλήματα με κριτήριο το είδος της επίλυσης που επιζητούν. 

β. Έστω τα παρακάτω επιλύσιμα προβλήματα:

1. Δίδεται ένας ακέραιος αριθμός N και ζητείται ποια είναι η παραγοντοποίηση του N με το μεγαλύτερο πλήθος παραγόντων. 
2. Δίδεται ένας ακέραιος αριθμός N και το πρόβλημα που τίθεται είναι αν ο N είναι άρτιος.
3. Δίδεται ένας ακέραιος αριθμός N και ζητείται να βρεθεί πόσες διαφορετικές παραγοντοποιήσεις του N υπάρχουν.

Για καθένα από τα προβλήματα αυτά, να γράψετε στο τετράδιό σας τον αριθμό του (1, 2 ή 3) και δίπλα την κατηγορία στην οποία ανήκει με κριτήριο το είδος της επίλυσης που επιζητεί. (μονάδες 3)

Μονάδες 6

A3. α. Πόσοι δείκτες απαιτούνται για την υλοποίηση μιας ουράς με μονοδιάστατο πίνακα (μονάδες 2) και τι δείχνει ο καθένας; (μονάδες 2)

β. Ποιος δείκτης της ουράς μεταβάλλεται κατά τη λειτουργία της εξαγωγής; (μονάδες 2)

Μονάδες 6

A4. α. Δίνονται οι παρακάτω εντολές:



$\lambda \leftarrow \lambda + 1$
 $\lambda \leftarrow \lambda - 2$
 $\lambda \leftarrow \lambda + 3$

Να γράψετε στο τετράδιό σας μία εντολή εκχώρησης που παράγει το ίδιο αποτέλεσμα. (μονάδες 3)



β. Δίνονται τα τμήματα αλγορίθμου I και II:

I	II
Αν $X > Y$ και $Y \neq 1$ τότε $Z \leftarrow X / (Y - 1)$ Εμφάνισε Z αλλιώς_αν $X > Y$ και $Y = 1$ τότε $Z \leftarrow Y / X$ Εμφάνισε Z Τέλος_αν	Αν τότε Αν τότε αλλιώς Τέλος_αν Τέλος_αν

Να γράψετε στο τετράδιό σας το τμήμα αλγορίθμου II με συμπληρωμένα τα κενά, ώστε να παράγει το ίδιο αποτέλεσμα με το τμήμα αλγορίθμου I. (μονάδες 5)

Μονάδες 8

A5. α. Δίνονται οι παρακάτω προτάσεις σε φυσική γλώσσα:



1. Αύξησε το X κατά 2.
2. Εκχώρησε στο Y τον μέσο όρο των K, Λ, Μ.
3. Το τελευταίο ψηφίο του A είναι 5.
4. Ο B είναι διψήφιος.

Να θεωρήσετε ότι οι A και B είναι θετικοί ακέραιοι. Να γράψετε στο τετράδιό σας τον αριθμό της κάθε πρότασης και δίπλα την κωδικοποίησή της σε ΓΛΩΣΣΑ. (μονάδες 4)

β. Δίνεται το παρακάτω τμήμα αλγορίθμου:

Διάβασε X
Αν $X > 15$ τότε
 Γράψε 1
αλλιώς_αν $X > 23$ τότε
 Γράψε 2
αλλιώς
 Γράψε 3
Τέλος_αν

ΑΡΧΗ 3ΗΣ ΣΕΛΙΔΑΣ – Δ΄ ΕΣΠΕΡΙΝΩΝ



Μια εντολή εξόδου στο παραπάνω τμήμα δεν πρόκειται να εκτελεστεί, όποια και αν είναι η τιμή του X.

1. Ποια είναι η εντολή αυτή; (μονάδες 2)
2. Να γράψετε τις εντολές εξόδου που είναι δυνατόν να εκτελεστούν και, δίπλα σε καθεμία από αυτές, το διάστημα τιμών του X για το οποίο θα εκτελεστεί η εντολή. (μονάδες 4)

Μονάδες 10

ΘΕΜΑ Β

- B1.** Δίνεται το παρακάτω τμήμα αλγορίθμου, όπου η μεταβλητή x έχει θετική ακέραια τιμή:

```
Αν  $x > 1$  τότε
   $y \leftarrow x$ 
  Αρχή_επανάληψης
   $y \leftarrow y - 2$ 
  Εμφάνισε y
Μέχρις_ότου  $y \leq 0$ 
Τέλος_αν
```

- α. Να σχεδιάσετε στο τετράδιό σας το ισοδύναμο διάγραμμα ροής. (μονάδες 6)



- β. Να ξαναγράψετε το τμήμα αυτό στο τετράδιό σας, χρησιμοποιώντας την εντολή **Για** αντί της εντολής **Μέχρις_ότου**. (μονάδες 8)

Μονάδες 14

- B2.** Το παρακάτω ημιτελές τμήμα αλγορίθμου εισάγει αριθμητικές τιμές σε πίνακα 100 θέσεων ώστε:



- α. οι τιμές να είναι διαφορετικές μεταξύ τους,
β. οι τιμές να εισάγονται σε αύξουσα σειρά.

Εάν κάποια εισαγόμενη τιμή δεν ικανοποιεί τις συνθήκες (α) και (β), επανεισάγεται.

Διάβασε Π[⁽¹⁾]

Για i από ⁽²⁾ μέχρι ⁽³⁾

Αρχή_επανάληψης

Διάβασε Π[i]

Μέχρις_ότου Π[⁽⁴⁾] ⁽⁵⁾ Π[⁽⁶⁾]

Τέλος_επανάληψης

Να γράψετε στο τετράδιό σας τους αριθμούς (1) έως (6), που αντιστοιχούν στα κενά του αλγορίθμου και, δίπλα σε κάθε αριθμό, ό,τι πρέπει να συμπληρωθεί, ώστε το τμήμα αλγορίθμου να επιτελεί τη λειτουργία που περιγράφεται.

Μονάδες 6

ΤΕΛΟΣ 3ΗΣ ΑΠΟ 5 ΣΕΛΙΔΕΣ

ΑΡΧΗ 4ΗΣ ΣΕΛΙΔΑΣ – Δ΄ ΕΣΠΕΡΙΝΩΝ



ΘΕΜΑ Γ

Μία εταιρεία μεταφοράς δεμάτων διαθέτει δύο αποθήκες, Α και Β, στο αεροδρόμιο. Κατά την παραλαβή δεμάτων, κάθε δέμα τοποθετείται στην αποθήκη που έχει εκείνη τη στιγμή τον περισσότερο ελεύθερο χώρο. Αν ο ελεύθερος χώρος της αποθήκης Α είναι ίσος με τον ελεύθερο χώρο της αποθήκης Β, το δέμα τοποθετείται στην αποθήκη Α. Όταν όμως το δέμα δεν χωρά σε καμία από τις δύο αποθήκες, προωθείται στις κεντρικές εγκαταστάσεις της εταιρείας, που βρίσκονται εκτός αεροδρομίου.

Να κατασκευάσετε πρόγραμμα που:

- G1.** Να περιλαμβάνει κατάλληλο τμήμα δηλώσεων.

Μονάδες 2

- G2.** Να διαβάξει τα μεγέθη ελεύθερου χώρου των αποθηκών Α και Β.

Μονάδες 2

- G3.** Να διαβάξει το μέγεθος κάθε εισερχόμενου δέματος και να εμφανίζει το όνομα της αποθήκης (Α ή Β) στην οποία θα τοποθετηθεί αυτό ή να εμφανίζει το μήνυμα «Προώθηση», όταν το δέμα δεν χωρά σε καμία από τις αποθήκες Α ή Β. Η διαδικασία παραλαβής τερματίζεται, όταν εισαχθεί ως μέγεθος δέματος η τιμή 0.

Μονάδες 8

- G4.** Στη συνέχεια, να βρίσκει και να εμφανίζει το όνομα της αποθήκης (Α ή Β) στην οποία τοποθετήθηκαν τα περισσότερα δέματα, ή το μήνυμα «Ισάριθμα» σε περίπτωση που στις δύο αποθήκες Α και Β τοποθετήθηκαν ισάριθμα δέματα, ή το μήνυμα «Καμία αποθήκευση στο αεροδρόμιο», αν κανένα δέμα δεν τοποθετήθηκε σε οποιαδήποτε από τις αποθήκες Α ή Β.

Μονάδες 8

ΘΕΜΑ Δ

Ένας διαγωνισμός τραγουδιού διεξάγεται σε δύο φάσεις, ως εξής:

Στην πρώτη φάση γίνεται ακρόαση των 45 τραγουδιών που διαγωνίζονται και κάθε μέλος της επταμελούς κριτικής επιτροπής βαθμολογεί το κάθε τραγούδι με βαθμό από 1 έως 10.

Στη δεύτερη φάση προκρίνεται κάθε τραγούδι που συγκέντρωσε συνολική βαθμολογία μεγαλύτερη του 50 και το οποίο όλοι οι κριτές έχουν βαθμολογήσει τουλάχιστον με 5.

Να γραφεί αλγόριθμος, ο οποίος:

- Δ1.** Για κάθε τραγούδι να διαβάξει τον τίτλο του και τον βαθμό που έδωσε κάθε κριτής. Δεν απαιτείται έλεγχος εγκυρότητας.

Μονάδες 3

- Δ2.** Να υπολογίζει και να εμφανίζει τη συνολική βαθμολογία του κάθε τραγουδιού, η οποία προκύπτει ως το άθροισμα των βαθμών όλων των κριτών.

Μονάδες 2

ΤΕΛΟΣ 4ΗΣ ΑΠΟ 5 ΣΕΛΙΔΕΣ

ΑΡΧΗ 5ΗΣ ΣΕΛΙΔΑΣ - Δ΄ ΕΣΠΕΡΙΝΩΝ

- Δ3.** Να βρίσκει και να εμφανίζει τους τίτλους των τραγουδιών που προκρίνονται στη δεύτερη φάση του διαγωνισμού. Αν κανένα τραγούδι δεν προκρίνεται στη δεύτερη φάση, να εμφανίζει κατάλληλο μήνυμα.

Μονάδες 6

- Δ4.** Να βρίσκει και να εμφανίζει το πλήθος των κριτών που έδωσαν τον μέγιστο βαθμό τους σε ένα μόνο τραγούδι.

Μονάδες 9

ΟΔΗΓΙΕΣ (για τους εξεταζομένους)

1. Στο εξώφυλλο του τετραδίου να γράψετε το εξεταζόμενο μάθημα. Στο εσώφυλλο πάνω-πάνω να συμπληρώσετε τα ατομικά στοιχεία μαθητή. Στην αρχή των απαντήσεών σας να γράψετε πάνω-πάνω την ημερομηνία και το εξεταζόμενο μάθημα. **Να μην αντιγράψετε** τα θέματα στο τετράδιο και **να μην γράψετε** πουθενά στις απαντήσεις σας το όνομά σας.
2. Να γράψετε το ονοματεπώνυμό σας στο πάνω μέρος των φωτοαντιγράφων αμέσως μόλις σας παραδοθούν. **Τυχόν σημειώσεις σας πάνω στα θέματα δεν θα βαθμολογηθούν σε καμία περίπτωση.** Κατά την αποχώρησή σας να παραδώσετε μαζί με το τετράδιο και τα φωτοαντίγραφα.
3. Να απαντήσετε **στο τετράδιό σας** σε όλα τα θέματα **μόνο** με μπλε ή **μόνο** με μαύρο στυλό με μελάνι που δεν σβήνει. Μολύβι επιτρέπεται, **μόνο** αν το ζητάει η εκφώνηση, και **μόνο** για πίνακες, διαγράμματα κλπ.
4. Κάθε απάντηση επιστημονικά τεκμηριωμένη είναι αποδεκτή.
5. Διάρκεια εξέτασης: τρεις (3) ώρες μετά τη διανομή των φωτοαντιγράφων.
6. Ώρα δυνατής αποχώρησης: 10.30 π.μ.

ΣΑΣ ΕΥΧΟΜΑΣΤΕ ΚΑΛΗ ΕΠΙΤΥΧΙΑ

ΤΕΛΟΣ ΜΗΝΥΜΑΤΟΣ

ΠΑΝΕΛΛΑΔΙΚΕΣ ΕΞΕΤΑΣΕΙΣ
Δ' ΤΑΞΗΣ ΕΣΠΕΡΙΝΟΥ ΓΕΝΙΚΟΥ ΛΥΚΕΙΟΥ
ΠΑΡΑΣΚΕΥΗ 27 ΜΑΪΟΥ 2016
ΕΞΕΤΑΖΟΜΕΝΟ ΜΑΘΗΜΑ:

ΑΝΑΠΤΥΞΗ ΕΦΑΡΜΟΓΩΝ ΣΕ ΠΡΟΓΡΑΜΜΑΤΙΣΤΙΚΟ ΠΕΡΙΒΑΛΛΟΝ
ΠΡΟΣΑΝΑΤΟΛΙΣΜΟΥ (ΝΕΟ ΣΥΣΤΗΜΑ)
ΣΥΝΟΛΟ ΣΕΛΙΔΩΝ: ΠΕΝΤΕ (5)

ΘΕΜΑ Α

A1. Να γράψετε στο τετράδιό σας τον αριθμό καθεμίας από τις παρακάτω προτάσεις 1-5 και, δίπλα, τη λέξη **ΣΩΣΤΟ**, αν η πρόταση είναι σωστή, ή τη λέξη **ΛΑΘΟΣ**, αν η πρόταση είναι λανθασμένη.

1. Η μεταφορά δεδομένων είναι μία από τις τρεις λειτουργίες που μπορεί να εκτελέσει ο υπολογιστής.
2. Οι στατικές δομές στηρίζονται στην τεχνική της δυναμικής παραχώρησης μνήμης.
3. Σε μια δομή σύνθετης επιλογής, μετά από τις εντολές που βρίσκονται μεταξύ των λέξεων ΤΟΤΕ και ΑΛΛΙΩΣ, εκτελούνται οι εντολές που βρίσκονται μεταξύ των λέξεων ΑΛΛΙΩΣ και ΤΕΛΟΣ_ΑΝ.
4. Η τιμή της έκφρασης 'ΤΕΤΑΡΤΗ' < 'ΠΕΜΠΤΗ' είναι ΑΛΗΘΗΣ.
5. Στο τμήμα δηλώσεων ενός προγράμματος εκτός από τον τύπο ενός πίνακα πρέπει να δηλώνεται και ο μεγαλύτερος αριθμός στοιχείων που μπορεί να έχει ο συγκεκριμένος πίνακας.

Μονάδες 10

A2. Να συμπληρώσετε τα κενά στον παρακάτω αλγόριθμο φυσαλίδα (ταξινόμηση ευθείας ανταλλαγής) σε έναν πίνακα table μεγέθους n.

```

Αλγόριθμος Φυσαλίδα
Δεδομένα //table,n//
Για i από ..(1).. μέχρι ..(2)..
    Για j από ..(3).. μέχρι ..(4).. με βήμα ..(5)..
        Αν table [j-1] > table [..(6)..] τότε
            αντιμετάθεσε table [j-1], table [j]
        Τέλος_αν
    Τέλος_Επανάληψης
Τέλος_Επανάληψης
Αποτελέσματα //table//
Τέλος Φυσαλίδα
    
```

Μονάδες 6

A3. Δίδεται πίνακας ΠΙΝ[7] με τις παρακάτω τιμές:

2	5	8	12	15	17	22
---	---	---	----	----	----	----

ΤΕΛΟΣ 1ΗΣ ΑΠΟ 5 ΣΕΛΙΔΕΣ

και το παρακάτω τμήμα αλγορίθμου:

```

low ← 1
high ← 7
found ← ΨΕΥΔΗΣ
    
```

Όσο low ≤ high ΚΑΙ found=ΨΕΥΔΗΣ επανάλαβε

mid ← (low+high) DIV 2

Εμφάνισε ΠΙΝ [mid]

Αν ΠΙΝ [mid] < 22 τότε

low ← mid+1

Αλλιώς_αν ΠΙΝ [mid] > 22 τότε

high ← mid-1

Αλλιώς

found ← ΑΛΗΘΗΣ

Τέλος_αν

Τέλος_Επανάληψης

Να γράψετε στο τετράδιό σας τις τιμές οι οποίες θα εμφανιστούν.

Μονάδες 9

A4. Έστω ο μονοδιάστατος πίνακας Α:

5	2	3	8	7	4	10	12
---	---	---	---	---	---	----	----

Να σχεδιάσετε τον πίνακα Β [4] μετά την εκτέλεση των παρακάτω εντολών:

1. B[A[1] – A[3]] ← A[5]
2. B[A[4] – A[5]] ← A[8]
3. B[A[3]] ← A[1]
4. B[A[3] + A[4] – A[5]] ← B[1] + B[2]

Μονάδες 8

A5. Δίδεται το παρακάτω τμήμα αλγορίθμου:

```

ΓΙΑ i ΑΠΟ 1 ΜΕΧΡΙ 100
    ΑΝ i MOD 2=0 ΤΟΤΕ
        ΕΜΦΑΝΙΣΕ i
    ΤΕΛΟΣ_ΑΝ
    
```

ΤΕΛΟΣ_ΕΠΑΝΑΛΗΨΗΣ

Να γραφούν ισοδύναμα τμήματα αλγορίθμου (δηλαδή να εμφανίζουν τις ίδιες τιμές).

- α) Με χρήση της εντολής ΓΙΑ, χωρίς την εντολή ΑΝ (μονάδες 3)
- β) Με χρήση της εντολής ΟΣΟ, χωρίς την εντολή ΑΝ (μονάδες 4)

Μονάδες 7

ΤΕΛΟΣ 2ΗΣ ΑΠΟ 5 ΣΕΛΙΔΕΣ

ΘΕΜΑ Β

B1. Ο αριθμός π εκφράζει το πηλίκο της περιμέτρου ενός κύκλου προς τη διάμετρό του. Η τιμή του μπορεί να υπολογιστεί, κατά προσέγγιση, από την παρακάτω παράσταση:

$$\pi = 4 \cdot \left(\frac{1}{1} - \frac{1}{3} + \frac{1}{5} - \frac{1}{7} + \dots \right)$$

Ο υπολογισμός της τιμής της παράστασης γίνεται από το παρακάτω τμήμα αλγορίθμου που περιλαμβάνει 5 κενά.

παρονομαστής \leftarrow (!)

$\Sigma \leftarrow 0$

πρόσημο $\leftarrow 1$

Για i από 1 μέχρι 100

 όρος $\leftarrow 1/\text{παρονομαστής}$

 όρος \leftarrow (!!) * πρόσημο

 (!) $\leftarrow \Sigma + \text{όρος}$

 πρόσημο \leftarrow πρόσημο * (!!)

 παρονομαστής \leftarrow παρονομαστής + 2

Τέλος_Επανάληψης

$\pi \leftarrow$ (!) * Σ

Να γράψετε στο τετράδιό σας τους αριθμούς 1 έως 5, που αντιστοιχούν στα κενά του αλγορίθμου, και, δίπλα σε κάθε αριθμό, ό,τι πρέπει να συμπληρωθεί, ώστε ο αλγόριθμος να υπολογίζει την τιμή του π , όπως περιγράφηκε.

Μονάδες 10

B2. Δίνεται το παρακάτω τμήμα αλγορίθμου:

1. $x \leftarrow 15$
2. $k \leftarrow 1$
3. Όσο $x < 18$ επανάλαβε
4. $x \leftarrow x + k$
5. Αν $x \bmod 3 = 0$ τότε
6. $k \leftarrow k + 2$
7. Αλλιώς
- $k \leftarrow k + 1$
- Τέλος Αν
- Τέλος_Επανάληψης

Να μεταφέρετε στο τετράδιό σας τον παρακάτω πίνακα τιμών και να συμπληρώσετε, για κάθε εντολή, την τιμή της αντίστοιχης μεταβλητής ή συνθήκης (έχει συμπληρωθεί ένα στοιχείο).

ΤΕΛΟΣ 3ΗΣ ΑΠΟ 5 ΣΕΛΙΔΕΣ

Αριθμός εντολής	x	k	Συνθήκη $x < 18$	Συνθήκη $x \bmod 3 = 0$
1	15			
...

Μονάδες 10



ΘΕΜΑ Γ

Μία εταιρεία πληροφορικής προσφέρει υπολογιστές σε τιμές οι οποίες μειώνονται ανάλογα με την ποσότητα της παραγγελίας όπως φαίνεται στον παρακάτω πίνακα:

ΠΟΣΟΤΗΤΑ	ΤΙΜΗ ΜΟΝΑΔΑΣ
1-50	580
51-100	520
101-200	470
Πάνω από 200	440

Να κατασκευάσετε πρόγραμμα το οποίο:

- G1.** Να περιλαμβάνει κατάλληλο τμήμα δηλώσεων. **Μονάδες 2**
- G2.** Να διαβάζει τον αριθμό υπολογιστών που έχει προς πώληση (απόθεμα), ελέγχοντας ότι δίνεται θετικός αριθμός. **Μονάδες 4**
- G3.** Για κάθε παραγγελία, να διαβάζει την απαιτούμενη ποσότητα και, εφόσον το απόθεμα επαρκεί για την κάλυψη της ποσότητας, να εκτελεί την παραγγελία με την ποσότητα που ζητήθηκε. Αν το απόθεμα δεν επαρκεί, διατίθεται στον πελάτη το διαθέσιμο απόθεμα. Η εισαγωγή παραγγελιών τερματίζεται, όταν εξαντληθεί το απόθεμα. **Μονάδες 8**
- G4.** Για κάθε παραγγελία να εμφανίζει το κόστος της. **Μονάδες 6**

ΤΕΛΟΣ 4ΗΣ ΑΠΟ 5 ΣΕΛΙΔΕΣ



ΘΕΜΑ Δ

Το Εθνικό Αρχαιολογικό Μουσείο, το οποίο γιορτάζει τα 150 χρόνια από τη θεμελίωσή του, θέλει να αναπτύξει μία εφαρμογή για την προβολή των εκθεμάτων του.

Να αναπτύξετε ένα πρόγραμμα σε ΓΛΩΣΣΑ, το οποίο:

Δ1. Να περιέχει κατάλληλο τμήμα δηλώσεων.

Μονάδες 2

Δ2. Να διαβάζει 1.000.000 ακέραιους κωδικούς εκθεμάτων στον πίνακα ΚΩΔ και 1.000.000 ονομασίες εκθεμάτων στον πίνακα ΕΚΘ.

Μονάδες 2

Δ3. Να ταξινομεί, κατά αύξουσα σειρά, τους πίνακες με βάση τον κωδικό του εκθέματος.

Μονάδες 8

Δ4. Να ζητά από τον χρήστη την εισαγωγή ενός κωδικού και, εφόσον αυτός αντιστοιχεί σε έκθεμα, να εμφανίζει την ονομασία του εκθέματος. Εάν το έκθεμα δεν υπάρχει, να εμφανίζει το μήνυμα: «Δεν υπάρχει». Η διαδικασία να ολοκληρώνεται, όταν εισαχθεί ο αριθμός 0.

Μονάδες 8

(Σημείωση: Να θεωρήσετε ότι οι κωδικοί όλων των εκθεμάτων είναι διαφορετικοί μεταξύ τους).

ΟΔΗΓΙΕΣ (για τους εξεταζομένους)

1. Στο εξώφυλλο του τετραδίου να γράψετε το εξεταζόμενο μάθημα. Στο εσώφυλλο πάνω-πάνω να συμπληρώσετε τα ατομικά στοιχεία μαθητή. Στην αρχή των απαντήσεών σας να γράψετε πάνω-πάνω την ημερομηνία και το εξεταζόμενο μάθημα. **Να μην αντιγράψετε** τα θέματα στο τετράδιο και **να μη γράψετε** πουθενά στις απαντήσεις σας το όνομά σας.
2. Να γράψετε το ονοματεπώνυμό σας στο πάνω μέρος των φωτοαντιγράφων αμέσως μόλις σας παραδοθούν. **Τυχόν σημειώσεις σας πάνω στα θέματα δεν θα βαθμολογηθούν σε καμία περίπτωση.** Κατά την αποχώρησή σας να παραδώσετε μαζί με το τετράδιο και τα φωτοαντίγραφα.
3. Να απαντήσετε **στο τετράδιό σας** σε όλα τα θέματα **μόνο** με μπλε ή **μόνο** με μαύρο στυλό με μελάνι που δεν σβήνει. Μολύβι επιτρέπεται, **μόνο** αν το ζητάει η εκφώνηση, και **μόνο** για πίνακες, διαγράμματα κλπ.
4. Κάθε απάντηση επιστημονικά τεκμηριωμένη είναι αποδεκτή.
5. Διάρκεια εξέτασης: τρεις (3) ώρες μετά τη διανομή των φωτοαντιγράφων.
6. Ώρα δυνατής αποχώρησης: 10.30 π.μ.

**ΣΑΣ ΕΥΧΟΜΑΣΤΕ ΚΑΛΗ ΕΠΙΤΥΧΙΑ
ΤΕΛΟΣ ΜΗΝΥΜΑΤΟΣ**

ΠΑΝΕΛΛΑΔΙΚΕΣ ΕΞΕΤΑΣΕΙΣ
Δ΄ ΤΑΞΗΣ ΕΣΠΕΡΙΝΟΥ ΓΕΝΙΚΟΥ ΛΥΚΕΙΟΥ
ΔΕΥΤΕΡΑ 12 ΙΟΥΝΙΟΥ 2017
ΕΞΕΤΑΖΟΜΕΝΟ ΜΑΘΗΜΑ:
ΑΝΑΠΤΥΞΗ ΕΦΑΡΜΟΓΩΝ ΣΕ ΠΡΟΓΡΑΜΜΑΤΙΣΤΙΚΟ ΠΕΡΙΒΑΛΛΟΝ
ΠΡΟΣΑΝΑΤΟΛΙΣΜΟΥ
ΣΥΝΟΛΟ ΣΕΛΙΔΩΝ: ΠΕΝΤΕ (5)

ΘΕΜΑ Α

A1. Να γράψετε στο τετράδιό σας τον αριθμό καθεμιάς από τις παρακάτω προτάσεις 1-5 και δίπλα τη λέξη **ΣΩΣΤΟ**, αν η πρόταση είναι σωστή, ή τη λέξη **ΛΑΘΟΣ**, αν η πρόταση είναι λανθασμένη.



1. Η έκφραση **ΟΧΙ(K=10 ΚΑΙ Χ>7)** είναι ισοδύναμη με την έκφραση **(K<>10 Ή Χ<=7)**.
2. Στους εμφωλευμένους βρόχους, ο βρόχος που ξεκινάει πρώτος ολοκληρώνεται πρώτος.
3. Οι εντολές στη δομή επανάληψης «**ΓΙΑ**» εκτελούνται τουλάχιστον μία φορά.
4. Πολύ συχνά οι εντολές που έχουν γραφτεί με εμφωλευμένα **ΑΝ** μπορούν να γραφτούν πιο απλά χρησιμοποιώντας σύνθετες εκφράσεις ή την εντολή επιλογής **ΑΝ... ΤΟΤΕ... ΑΛΛΙΩΣ_ΑΝ**.
5. Οι συγκριτικοί τελεστές έχουν μεγαλύτερη ιεραρχία από τους λογικούς τελεστές.

Μονάδες 10

A2. α. Τι είναι δομή δεδομένων; (μονάδες 2)
Να αναφέρετε ονομαστικά 4 λειτουργίες επί των δομών δεδομένων. (μονάδες 4)



β. Να αναφέρετε ονομαστικά τους τρόπους περιγραφής και αναπαράστασης αλγορίθμου. (μονάδες 4)

Μονάδες 10

A3. Να αντιστοιχίσετε τα στοιχεία της στήλης Α με όποιο στοιχείο της στήλης Β κρίνετε ορθό.



- | | |
|-------------|--------------------------|
| 1. ΨΕΥΔΗΣ | α. Χαρακτήρας |
| 2. 5 mod 2 | β. Ακέραιος |
| 3. 36/12 | γ. Λογική σταθερά |
| 4. 'ΑΛΗΘΗΣ' | δ. Πραγματικός |
| 5. ΚΑΙ | ε. Λογικός τελεστής |
| | στ. Συγκριτικός τελεστής |

Μονάδες 10

A4. $i \leftarrow 0$
 $k \leftarrow 12$
Όσο $i \leq k$ επανάλαβε
 $i \leftarrow i+2$
 $k \leftarrow k-1$
Γράψε i, k
Τέλος_επανάληψης



Να μεταφέρετε στο τετράδιό σας τον παρακάτω πίνακα και να συμπληρώσετε τις τιμές των μεταβλητών που θα εμφανίζει το παραπάνω απόσπασμα αλγορίθμου σε κάθε επανάληψη:

Οθόνη (εμφάνιση των i και k)

Επανάληψη 1	
Επανάληψη 2	
...	

Μονάδες 10

ΘΕΜΑ Β

B1. Δίνεται το παρακάτω απόσπασμα αλγορίθμου:



$i \leftarrow \dots(1)$
Όσο $i \leq \dots(2)$ επανάλαβε
 Αν $i \dots(3) <> \dots(4)$ τότε
 Γράψε i
 Τέλος_αν
 $i \leftarrow i + \dots(5)$
Τέλος_επανάληψης

Να γράψετε στο τετράδιό σας τους αριθμούς 1 έως 5, που αντιστοιχούν στα κενά του παραπάνω αποσπάσματος, και δίπλα σε κάθε αριθμό τι πρέπει να συμπληρωθεί, ώστε με την εκτέλεσή του να εμφανίζονται οι τιμές:

4, 8, 16, 20, 28, 32, 40

Μονάδες 10

B2. Έστω ότι έχουμε το παρακάτω απόσπασμα αλγορίθμου:

S←0

Για i από 5 μέχρι 20 με βήμα 3

Διάβασε X

S←S+X

Τέλος_επανάληψης

Να ξαναγράψετε το παραπάνω απόσπασμα αλγορίθμου χρησιμοποιώντας αντί για την εντολή **Για...** **Τέλος_επανάληψης**:

α) την εντολή **Όσο...Τέλος_επανάληψης**

(μονάδες 5)

β) την εντολή **Αρχή_επανάληψης...Μέχρις_ότου**

(μονάδες 5)

Μονάδες 10

ΘΕΜΑ Γ

Στο πλαίσιο ενός τοπικού σχολικού πρωταθλήματος βόλεϊ συμμετέχουν 5 σχολεία, αριθμημένα από το 1 έως το 5. Κάθε σχολείο παίζει μία φορά με όλα τα υπόλοιπα. Άρα θα πραγματοποιηθούν συνολικά 10 αγώνες. Νικητής ενός αγώνα είναι το σχολείο που έχει κερδίσει 3 σετ. Ο νικητής παίρνει 2 βαθμούς και ο ηττημένος 1 βαθμό.

Κάθε αγώνας προσδιορίζεται από τα σχολεία που παίζουν μεταξύ τους και το αποτέλεσμα του αγώνα σε σετ. Για παράδειγμα, η σειρά των στοιχείων: **4, 5, 1, 3** σημαίνει ότι το σχολείο **4** έπαιξε με το σχολείο **5** και έχασε τον αγώνα με **1** σετ υπέρ και **3** κατά. Αυτό αντίστοιχα σημαίνει ότι το σχολείο **5** κέρδισε τον αγώνα με το σχολείο **4** με **3** σετ υπέρ και **1** σετ κατά.

Τα δεδομένα των αγώνων αποθηκεύονται σε τρεις μονοδιάστατους πίνακες **A1[5]**, **A2[5]**, **A3[5]**, όπου κάθε στοιχείο αντιστοιχεί σε ένα σχολείο. Ο πίνακας **A1** περιέχει για κάθε σχολείο τη βαθμολογία του (το άθροισμα των βαθμών του). Ο πίνακας **A2** περιέχει για κάθε σχολείο το άθροισμα των σετ υπέρ. Ο πίνακας **A3** περιέχει το άθροισμα των σετ κατά.

Να κατασκευάσετε πρόγραμμα σε ΓΛΩΣΣΑ το οποίο:

G1. α) Να περιλαμβάνει κατάλληλο τμήμα δηλώσεων. (μονάδες 2)
β) Να διαβάσει τα ονόματα των 5 σχολείων και να τα καταχωρίζει στον πίνακα **ON [5]**. Η σειρά των σχολείων καθορίζει την αρίθμησή τους (1 έως 5). (μονάδες 2)
γ) Να αρχικοποιεί τους πίνακες **A1, A2, A3** θέτοντας σε κάθε θέση κάθε πίνακα τον αριθμό 0. (μονάδες 2)

Μονάδες 6

G2. Να διαβάσει για κάθε αγώνα τη σειρά των 4 στοιχείων που τον προσδιορίζουν και να ενημερώνει τους πίνακες **A1, A2, A3** και για τα δύο σχολεία όπως περιγράφεται παραπάνω.

Μονάδες 6

G3. Να κατατάσσει τα σχολεία σε φθίνουσα σειρά ανάλογα με τη βαθμολογία τους.

Μονάδες 6

G4. Να εμφανίζει τα ονόματα των σχολείων, τη βαθμολογία τους, το άθροισμα των σετ υπέρ και το άθροισμα των σετ κατά με βάση τη σειρά κατάταξής τους.

Μονάδες 2

Σημείωση: Θεωρείστε ότι δεν υπάρχει περίπτωση δύο σχολεία να έχουν την ίδια βαθμολογία.

ΘΕΜΑ Δ

Σε ένα σεμινάριο διάρκειας 2 μηνών, τηρούνται απουσίες ανά μήνα για κάθε συμμετέχοντα. Στο σεμινάριο συμμετέχουν 50 επιμορφούμενοι και ο καθένας έχει ένα μοναδικό αλφαριθμητικό κωδικό, που αποθηκεύεται στον πίνακα **KΩΔ[50]**. Οι απουσίες κάθε συμμετέχοντα ανά μήνα σεμιναρίου αποθηκεύονται σε δύο πίνακες **ΑΠ1[50]** και **ΑΠ2[50]**. Η γραμματεία τηρεί το σύνολο των απουσιών για τους δύο μήνες σε πίνακα **ΑΠΤΡ[50]**. Ο επιμορφούμενος δικαιούται να συμμετάσχει στις εξετάσεις αν έχει λιγότερες από 10 απουσίες σε καθένα από τους δύο μήνες.

Να κατασκευάσετε πρόγραμμα σε ΓΛΩΣΣΑ το οποίο:

Δ1. περιέχει τμήμα δηλώσεων.

Μονάδες 2

Δ2. διαβάσει επαναληπτικά τον κωδικό του κάθε επιμορφούμενου, τις απουσίες του ανά μήνα σεμιναρίου και τα καταχωρίζει στον πίνακα **KΩΔ** και τον πίνακα **ΑΠ1** και **ΑΠ2** αντίστοιχα (θεωρείστε ότι τα δεδομένα εισάγονται σωστά).

Μονάδες 4

Δ3. για κάθε επιμορφούμενο υπολογίζει το σύνολο των απουσιών των δύο μηνών και ενημερώνει τον πίνακα **ΑΠΤΡ**.

Μονάδες 6

Δ4. διαβάσει επαναληπτικά έναν κωδικό, ο οποίος αναζητείται στον πίνακα **KΩΔ**. Αν ο κωδικός αντιστοιχεί σε επιμορφούμενο, να εμφανίζει κατάλληλο μήνυμα δυνατότητας ή μη συμμετοχής του στις εξετάσεις. Αν ο κωδικός δε βρεθεί, εμφανίζει μήνυμα «ΔΕ ΒΡΕΘΗΚΕ Ο ΚΩΔΙΚΟΣ». Η διαδικασία επαναλαμβάνεται μέχρι να δοθεί ως κωδικός η λέξη **ΤΕΛΟΣ**.

Μονάδες 8